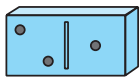
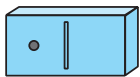


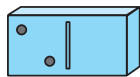
1. Домалюй крапки на кісточках доміно і обчисли вирази за зразком.



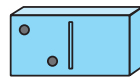
$2 + 1 = \boxed{3}$



$1 + 1 = \square$



$2 + 2 = \square$




$2 + 3 = \square$

2. Розв'яжи задачу.

Чоловічок пройшов одну плитку. Він має пройти ще 3 плитки. Скільки плиток залишиться пройти чоловічкови, якщо він подолає не одну, а 2 плитки?



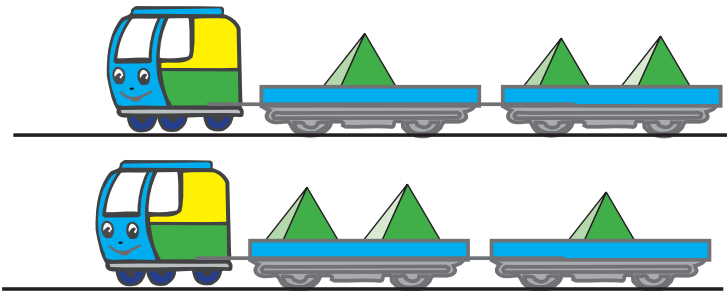
Відповідь: \square _____



3. Склади рівність про пірамідки на платформах другого поїзда.

$1 + 2 = 3$

$\square + \square = 3$



4. Обчисли вирази.

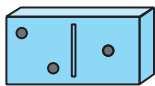
$1 + 1 = \square$

$3 + 1 = \square$

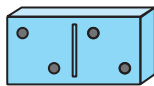
$2 + 1 = \square$

$4 + 1 = \square$

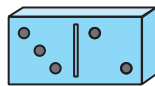
1. Заповни «віконечка» у рівностях. Кісточки доміно тобі допоможуть.



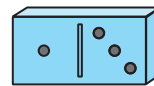
$$\square + 1 = 3$$



$$2 + \square = 4$$



$$\square + 2 = 5$$



$$1 + \square = 4$$

2. Допиши пропущені числа. Скористайся малюнком.



$$1 + \square = 5$$

$$2 + \square = 5$$

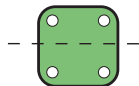
$$3 + \square = 5$$

$$4 + \square = 5$$

3. Допиши пропущені числа. Тобі допоможуть малюнки.



$$\square + \square = 4$$

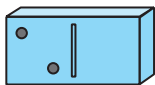


$$\square + \square = 4$$

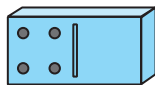


$$\square + \square = 4$$

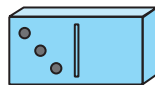
4. Домалюй крапки на кісточках доміно і обчисли вирази.



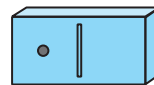
$$2 + 3 = \square$$



$$4 + 1 = \square$$



$$3 + 2 = \square$$

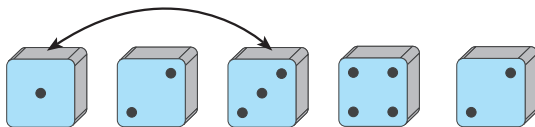


$$1 + 4 = \square$$

1. Заповни порожні клітинки в будиночку так, щоб на кожному поверсі сума чисел дорівнювала його номеру. Номер будинку позначено вгорі.



2. Кількість крапок на кубиках, позначених стрілками, дорівнює 4. З'єднай решту кубиків так, щоб кількість крапок на них теж дорівнювала 4. Результати запиши в клітинки у вигляді рівності.



$$\square 2 + \square 2 = \square 4$$

$$\square + \square = \square$$

3. Допиши пропущені числа. Тобі допоможуть малюнки.



$$\square + \square = 5$$



$$\square + \square = 5$$

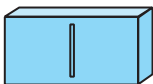


$$\square + \square = 5$$

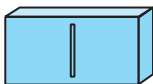


$$\square + \square = 5$$

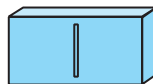
4. Добери пропущені у рівностях числа і домалюй на кісточках крапки.



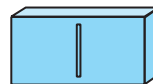
$$1 + \square = 2$$



$$2 + \square = 3$$

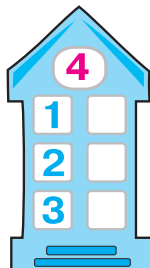


$$2 + \square = 4$$






$$4 + \square = 5$$

1. Заповни порожні клітинки в будиночку так, щоб на кожному поверсі сума чисел дорівнювала його номеру.



2. З'єднай стрілками групи рибок так, щоб кількість рибок у кожній групі дорівнювала 4.



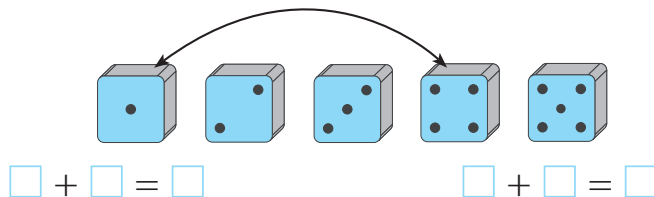
3. Наклейка коштує 3 гривні. Обведи монетки, яких вистачить, щоб заплатити за наклейку.



4. З'єднай стрілками кустики квітів так, щоб кількість квіток у кожній групі дорівнювала 4.



1. Кількість крапок на кубиках, позначених стрілками, дорівнює 5. З'єднай решту кубиків так, щоб кількість крапок на них теж дорівнювала 5. Результати запиши в клітинках у вигляді рівностей.



2. Допиши пропущені числа.

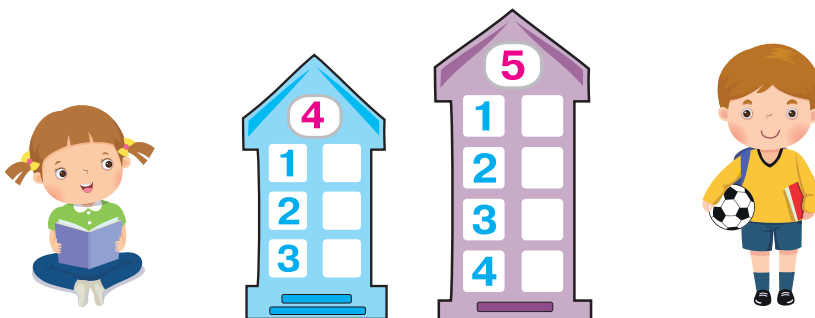
$1 + \square = 4$

$2 + \square = 4$

$4 - \square = 3$

$5 - \square = 1$

3. Заповни порожні клітинки в будиночку так, щоб на кожному поверсі сума чисел дорівнювала його номеру.



4. Об'єднай пташок у групи так, щоб у кожній було 5 пташок.

