

1 Вибери правильну відповідь.

Мандруючі будинки

У наш час людям часто хочеться змінити місце проживання. В таких випадках вони зазвичай переселяються в іншу квартиру чи будинок. А от американці діють по-іншому. Вони селяться в будинки-прічепи. Перевезли таке помешкання на нове місце, підключили світло, воду, телевізор й інтернет — і живуть далі. За вікнами все нове, а в будинку — усе на звичних місцях. Ніби й не переїжджали зовсім.

Ти хотів би жити в мандруючому будинку?

Так. Ні.



2 Розглянь малюнки. Упиши назви цих предметів у клітинки. Встанови між ними відповідність за зразком.



Б

К

Ц

М

3 Обведи слова в поданому реченні, що не відповідають малюнку.



Хлопчик сидить на стільці.



- 4 Петрик прочитав за місяць 4 тоненькі книжечки й 1 товсту. Скільки всього книжок прочитав Петрик?

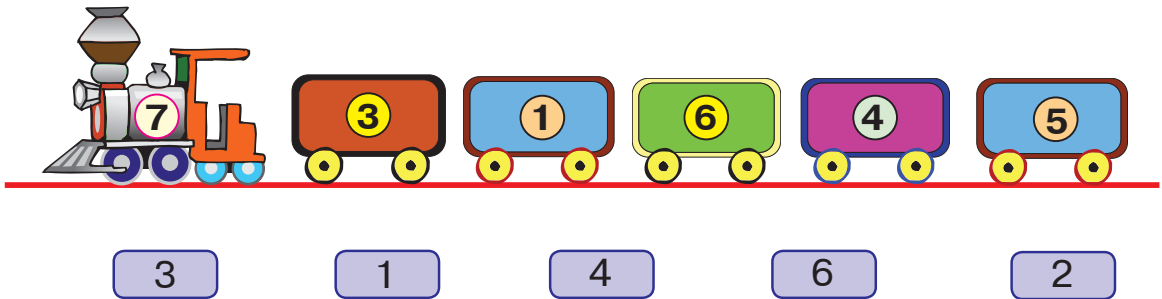
Розв'язання:

$$\square \square \square = \square \text{ (кн.)}$$

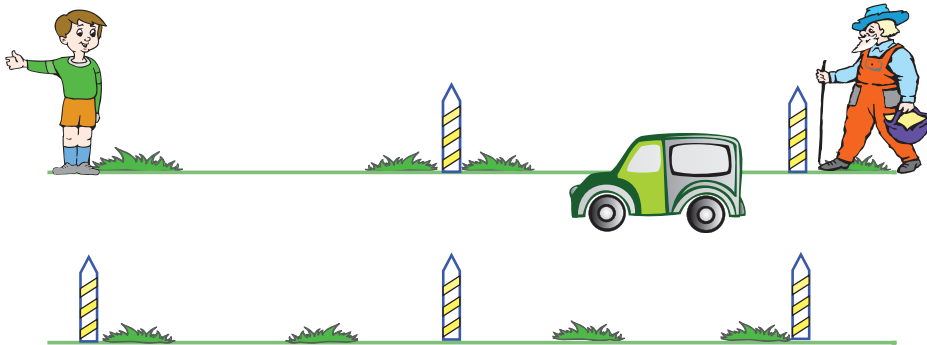
Відповідь. $\square = \frac{\quad}{\quad}$



- 5 Вантажність кожного вагончика — 7 кілограмів. Скільки кілограмів вантажу треба додати до кожного вагончика, щоб завантажити його повністю? З'єднай стрілочками відповідно вагони й вантажі.

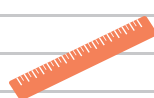



- 6 Машина їде швидше, ніж рухається пішохід. Який із зображених пішоходів може опинитися поряд з машиною, якщо вона не змінить напрямку руху? Підкресли його.



- 7 Обчисли вирази. Встанови відповідність між виразом та його значенням.

5 + 2
2 + 2
1 + 2
1 + 1
2 + 3



1 Вибери правильну відповідь.

Будинок догори дном


Якось в Японії збудували будинок «догори дном». Звели його поблизу дороги, тож всі водії зупиняються і заходять подивитися на таке диво. А там розмістився магазин. Подорожні з цікавістю все розглядають й обов'язково що-небудь купують на згадку.

Що розмістили в перевернутому будинку?

- Спортзал.
- Магазин.
- Бібліотеку.



2 Розглянь малюнки. Упиши назви цих предметів у клітинки. Встанови між ними відповідність.



П

П

Д

В

3 Обведи слова в поданому реченні, що не відповідають малюнку.



Клоун ліг спати.

4




- 4 У ляльковому будиночку раніше жили 4 феї, та потім одна з них переселилася в курінь із листочків. Скільки фей залишилося в будиночку?

Розв'язання:

$$\square \square \square = \square \text{ (ф.)}$$

Відповідь. $\square = \frac{\quad}{\quad}$



- 5 Кожній букві відповідає певне число. Розглянь, як розшифрували слово за допомогою результатів обчислень. Розшифруй решту слів.

Е
1

А
2

С
3

Л
4

И
5

В
6

Н
7

$5 - 2 = \boxed{3} \text{ с}$

$2 + 4 = \square \square$

$6 - 3 = \square \square$

$6 - 2 = \boxed{4} \text{ л}$

$4 - 3 = \square \square$

$5 - 1 = \square \square$

$2 + 3 = \boxed{5} \text{ и}$

$4 - 1 = \square \square$

$1 + 1 = \square \square$

$3 + 3 = \boxed{6} \text{ в}$

$5 + 2 = \square \square$

$7 - 1 = \square \square$

$3 - 1 = \boxed{2} \text{ а}$

$4 - 2 = \square \square$

$5 - 3 = \square \square$

- 6 На математичному дереві яблуко, позначене більшим числом, має висіти вище, ніж яблуко, позначене меншим числом. З'єднай стрілочкою яблука, які слід поміняти між собою місцями.

