

$76 - 12 - 35 =$

$3 \cdot 8 =$

$3 \cdot 6 =$

$84 - 16 - 38 =$

$2 \cdot 9 =$

$2 \cdot 6 =$

$52 - 22 + 43 =$

$3 \cdot 5 =$

$2 \cdot 9 =$



На дереві росло 30 горіхів. Кожен із трьох папуг з'їв по 5 горіхів. Скільки горіхів залишилося?



Розв'язання

<table border="1" style="display: inline-table; vertical-align: middle;"><tr><td> </td><td> </td></tr><tr><td> </td><td> </td></tr></table>					<table border="1" style="display: inline-table; vertical-align: middle;"><tr><td> </td></tr><tr><td> </td></tr></table>			<table border="1" style="display: inline-table; vertical-align: middle;"><tr><td> </td><td> </td></tr><tr><td> </td><td> </td></tr></table>					<table border="1" style="display: inline-table; vertical-align: middle;"><tr><td> </td></tr><tr><td> </td></tr></table>			<table border="1" style="display: inline-table; vertical-align: middle;"><tr><td> </td><td> </td></tr><tr><td> </td><td> </td></tr></table>					_____
<table border="1" style="display: inline-table; vertical-align: middle;"><tr><td> </td><td> </td></tr><tr><td> </td><td> </td></tr></table>					<table border="1" style="display: inline-table; vertical-align: middle;"><tr><td> </td></tr><tr><td> </td></tr></table>			<table border="1" style="display: inline-table; vertical-align: middle;"><tr><td> </td><td> </td></tr><tr><td> </td><td> </td></tr></table>					<table border="1" style="display: inline-table; vertical-align: middle;"><tr><td> </td></tr><tr><td> </td></tr></table>			<table border="1" style="display: inline-table; vertical-align: middle;"><tr><td> </td><td> </td></tr><tr><td> </td><td> </td></tr></table>					_____

Час: хв ____ с ____

Помилко́к _____



61

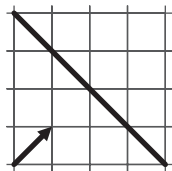
Відповідь:

І	К	А	М	О	Л	С	У	Т	Р
15	21	25	31	35	41	45	50	55	60













$92 - 71 =$	<input type="text"/>	<input type="text"/>	<input type="text"/>	$31 + 14 =$	<input type="text"/>	<input type="text"/>	<input type="text"/>	$25 + 35 =$	<input type="text"/>	<input type="text"/>	<input type="text"/>
$83 - 48 =$	<input type="text"/>	<input type="text"/>	<input type="text"/>	$11 + 39 =$	<input type="text"/>	<input type="text"/>	<input type="text"/>	$89 - 39 =$	<input type="text"/>	<input type="text"/>	<input type="text"/>
$12 + 29 =$	<input type="text"/>	<input type="text"/>	<input type="text"/>	$15 + 16 =$	<input type="text"/>	<input type="text"/>	<input type="text"/>	$20 + 25 =$	<input type="text"/>	<input type="text"/>	<input type="text"/>
$99 - 64 =$	<input type="text"/>	<input type="text"/>	<input type="text"/>	$65 - 44 =$	<input type="text"/>	<input type="text"/>	<input type="text"/>	$31 - 6 =$	<input type="text"/>	<input type="text"/>	<input type="text"/>
$22 + 23 =$	<input type="text"/>	<input type="text"/>	<input type="text"/>	$12 + 13 =$	<input type="text"/>	<input type="text"/>	<input type="text"/>	$80 - 59 =$	<input type="text"/>	<input type="text"/>	<input type="text"/>




На малюнку позначено стрілку і дзеркало. Намалюй віддзеркалення стрілки.



Щ	Ф	О	Т	К	А	Н	Р	Ю	П
1	2	3	4	5	6	7	8	9	10

$8 : 4 =$		$16 : 4 =$		$20 : 4 =$	
$24 : 4 =$		$18 : 3 =$		$12 : 4 =$	
$24 : 3 =$		$21 : 3 =$		$16 : 2 =$	
$2 \cdot 3 =$		$15 : 3 =$		$12 : 2 =$	

Квадрат повернули так, що стрілка направилася вниз. Домалюй хрестик і нулики, яких у ньому не вистачає.



$24 : 6 = \square$

$36 : 6 = \square$

$18 : 6 = \square$

$9 : 3 = \square$

$24 : 4 = \square$

$36 : 4 = \square$

$18 : 3 = \square$

$12 : 6 = \square$

$24 : 3 = \square$

$32 : 4 = \square$

$18 : 2 = \square$

$12 : 4 = \square$

В отарі пасеться 8 козенят, а ягнят — у 6 разів більше. Скільки всього тварин в отарі?



Розв'язання

$$\begin{array}{ccccccc} \square\square & \square & \square\square & \square & \square\square & \underline{\hspace{2cm}} \\ \square\square & \square & \square\square & \square & \square\square & \underline{\hspace{2cm}} \end{array}$$

Час: хв с

Помилко



91

Відповідь: $\square\square$

$32 : 8 = \square$

$18 : 3 = \square$

$5 \cdot 6 + 56 = \square$

$45 : 9 = \square$

$28 : 7 = \square$

$8 \cdot 2 + 28 = \square$

$36 : 4 = \square$

$54 : 9 = \square$

$9 \cdot 9 - 18 : 2 = \square$

Серед 45 колобків 9 уміють читати, а решта—ні. У скільки разів більше неграмотних колобків, ніж грамотних?



Розв'язання

$$\begin{array}{ccccccc} \square\square & \square & \square\square & \square & \square\square & \underline{\quad} & \\ \square\square & \square & \square\square & \square & \square\square & \underline{\quad} & \end{array}$$

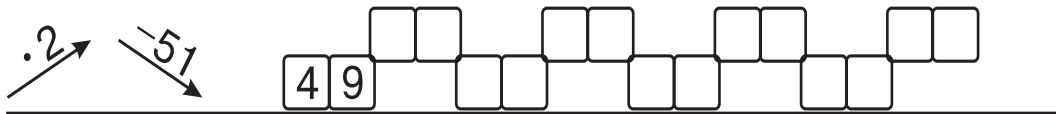
Час: хв с

Помилко


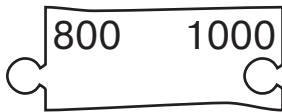

120

Відповідь: у






Постав прапорець удвічі ближче до ялинки, ніж до берези, але не між деревами.



Пропонований математичний “тренажер” відповідає чинній програмі і підручникам з математики для 2-ого класу. “Тренажер” містить “швидкі” та цікаві сторінки. На “швидких” (непарних) сторінках подано вирази і задачі. На кожному уроці протягом трьох хвилин учні заповнюють сторінку. Вчитель фіксує час і оцінює правильність виконання завдань. Мета цих сторінок – оперативний контроль знань. Цікаві (парні) сторінки включають нестандартні завдання, які допоможуть розвинути пізнавальну активність учнів, їх логічне мислення та любов до математики. Посібник можна використовувати не тільки під час уроку, але й для індивідуальних і додаткових занять з учнями в школі та вдома.

ISBN 978-966-10-2723-6



м. Київ, т/ф (044) 2968956, nk-bogdan@ukr.net
м. Тернопіль, т/ф (0352) 430046, 520607
publishing@budny.te.ua
office@bohnan-books.com
www.bohdan-books.com



“КНИГА ПОШТОЮ” А/С 529
м. Тернопіль, 46008
т. (0352) 287489, 511141
(067) 3501870, (066) 7271762
mail@bohnan-books.com

Навчальне видання
Беденко Марко Васильович

МАТЕМАТИКА

“Швидкі” та цікаві сторінки

Супербліц

2 клас

Частина друга

Головний редактор Б.Є. Будний

Редактор Л.Ф. Левчук

Обкладинка Р.Р. Крамар

Художник В.В. Качурівський

Комп'ютерна верстка Т.М. Золосєдова

Підписано до друку 16. 08. 2013. Формат 70х84/32. Папір офсетний.
Гарнітура Прагматика. Умовн. друк. арк. 4,09. Умовн. фарбо-відб. 4,09.

Видавництво «Навчальна книга – Богдан»

Свідоцтво про внесення суб'єкта видавничої справи до Державного
реєстру видавців, виготівників і розповсюджувачів видавничої продукції
ДК № 4221 від 07.12.2011 р.

Навчальна книга – Богдан, просп. С. Бандери, 34а, м. Тернопіль, 46002
Навчальна книга – Богдан, а/с 529, м. Тернопіль, 46008
тел./факс (0352)52-06-07; 52-19-66; 52-05-48
office@bohnan-books.com, www.bohdan-books.com

© Навчальна книга – Богдан, 2013