





# Математичний вираз «різниця»

1. Зафарбуй вирази та їх значення одним кольором.



$6 + 2$

$9 - 2$

$7 + 2$

$10 - 2 - 1$

$10 - 2$

$5 + 4$

$8 - 2$

$4 + 2$

2.

Сума	Різниця
$4 \square 2 = \square$	$4 \square 2 = \square$
$6 \square 1 = \square$	$6 \square 1 = \square$
$7 \square 2 = \square$	$7 \square 2 = \square$
$5 \square 2 = \square$	$5 \square 2 = \square$

3. Обчисли значення різниць.

$4 - 1$

$8 + 1$

$9 - 2$

$6 + 2$

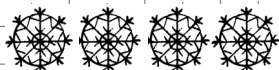
$7 + 0$

$5 - 0$

$6 - 2$

$7 - 2$

4.




на  більше

5.



?, на 2 більше

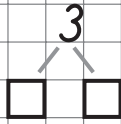
6.



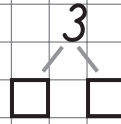
?, на 2 менше

# Додавання і віднімання числа 3


1. ●○○ 1 + 2 = .



●●○ 2 + 1 = .



2. 5 + 3 = 5 + . + . = .



7 - 3 = 7 - . - . = .



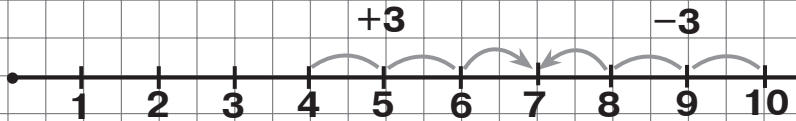
6 + 3 = 6 + . + . = .



9 - 3 = 9 - . - . = .



3.



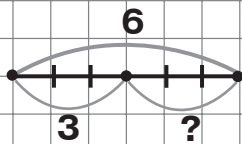
4 + 3 = .

10 - 3 = .

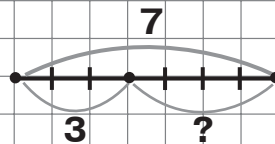
1 + 3 = .

8 - 3 = .

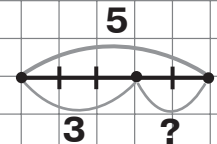
4.



. - . = .



. - . = .



. - . = .

5. 4 + 1 + 2 = .

8 - 2 - 1 = .


5 + 3 = .

4 + 3 = .

8 - 3 = .

5 - 3 = .

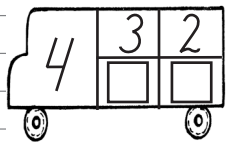
6.



.

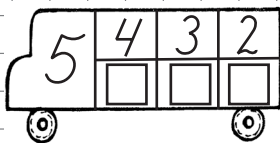
# Додавання і віднімання числа 3

1.



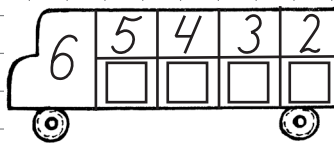
$1 + 3 = .$

$4 - 3 = .$



$2 + 3 = .$

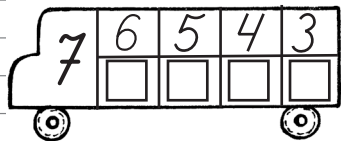
$5 - 3 = .$



$3 + 3 = .$

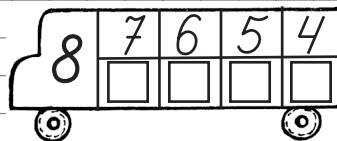
$6 - 3 = .$

2.



$4 + 3 = .$

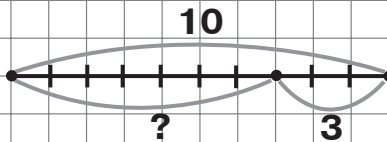
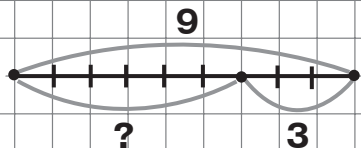
$7 - 3 = .$



$5 + 3 = .$

$8 - 3 = .$

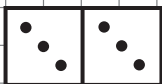
3.



4.

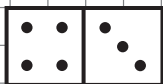
$7 + 3 = 7 + . + . = .$

5.



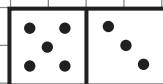
$. + . = .$

$. - . = .$



$. + . = .$

$. - . = .$



$. + . = .$

$. - . = .$

6.

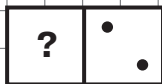
$\square + 3 = 5$

$\square + 3 = 9$

$\square - 3 = 1$

# Знаходження невідомого доданка

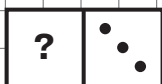
1.



6

$$\square + 2 = 6$$

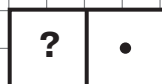
$$6 - 2 = \square$$



7

$$\square + 3 = 7$$

$$7 - 3 = \square$$

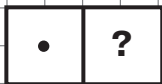


9

$$\square + 1 = 9$$

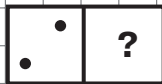
$$9 - 1 = \square$$

2.



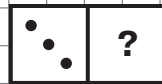
7

$$1 + \square = 7$$



8

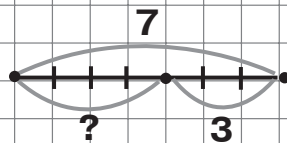
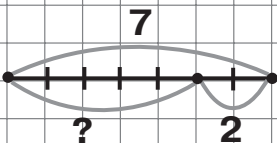
$$2 + \square = 8$$



10

$$3 + \square = 10$$


3.



4.

Доданок	Доданок	Сума
2	<input type="checkbox"/>	9
3	<input type="checkbox"/>	8
<input type="checkbox"/>	3	5
<input type="checkbox"/>	2	7

5.



6.

$$1 + \square = 6$$

$$\square + 2 = 6$$

$$\square + 1 = 8$$

$$3 + \square = 10$$

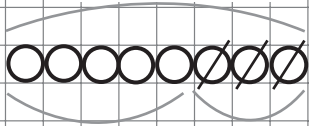
$$\square + 3 = 5$$

$$\square + 3 = 6$$

# Компоненти та результат дії віднімання

1.

Зменшуване



$$8 - \dots = \dots$$

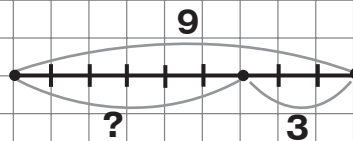
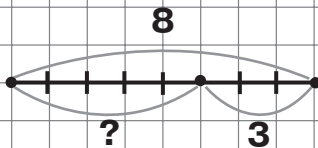
Різниця Від'ємник

2.



Зменшуване	Від'ємник	Різниця
6	2	$6 - 2 = 4$
<input type="text"/>	<input type="text"/>	<input type="text"/>
<input type="text"/>	<input type="text"/>	<input type="text"/>
<input type="text"/>	<input type="text"/>	<input type="text"/>

3.



4. Обчисли значення різниць. Підкресли в кожній рівності зменшуване.

$$9 - 2$$

$$8 + 2$$

$$7 - 3$$

$$4 + 3$$

$$6 + 2$$

$$8 - 2$$

$$7 - 2$$

$$4 - 3$$

5.

