


**Натисніть тут, щоб
купити книгу на сайті
або замовляйте за телефоном:
(0352) 51-97-97, (067) 350-18-70,
(066) 727-17-62**



Щоб прикрасити тістечко, потрібно 8 полуничок, а для торта — 25 полуничок. Скільки полуничок потрібно, щоб прикрасити 6 таких тістечок і 2 торти?



«ПЛЮС»



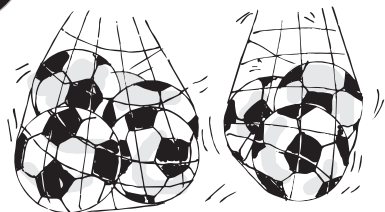
Книга коштує 9 грн, а добірка лазерних дисків — у 8 разів дорожче. На скільки гривень більше треба заплатити за лазерні диски, ніж за книгу?



«МІНУС»

РЕЗУЛЬТАТ





У магазині було 4 сітки з футбольними м'ячами, по 9 у кожній. М'ячі переклали у менші сітки, по 6 м'ячів у кожному. Скільки менших сіток використали?



«ПЛЮС»




ГОЛ !!!



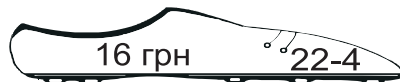
РЕЗУЛЬТАТ



МАЗИЛО !!!



За 4 коробки цукерок, по 8 грн кожна, покупець розрахувався чотирма купюрами по 10 грн. Скільки гривень здачі отримає покупець?



«МІНУС»



19-1



На риболовецькому сейнері рибалки наловили 8 т риби. Це у 4 рази менше, ніж уміщує сейнер. Скільки тонн риби ще можуть наловити рибалки, не розвантажуючи сейнер?



31-1


«ПЛЮС»

19-3

ГОЛ !!!



19-2



У пачці вміщується або 120 зошитів, або 20 підручників. Скільки таких пачок потрібно завести, щоб кожен із 840 учнів отримав зошит і підручник?



30-1

РЕЗУЛЬТАТ


«МІНУС»

19-4

МАЗИЛО !!!



31-1



У магазині продали 120 тенісних ракеток, а ракеток для бадмінтону — на 20 більше. Скільки всього ракеток продали в магазині?

260 ракеток $24-4$

280 ракеток $25-3$

14-1

«ПЛЮС»

31-2



У парку побудували для дітей фортецю, використавши для її спорудження 1200 каменів, 2500 білих і 3700 червоних цеглин. На скільки більше цеглин, ніж каменів, використали для будівництва фортеці?

4800 цеглин $27-4$

5000 цеглин $26-3$

15-2

«МІНУС»

РЕЗУЛЬТАТ

31-4

ГОЛ !!!



31-3

МАЗИЛО !!!

