

**Натисніть тут, щоб
купити книгу на сайті
або замовляйте за телефоном:
(0352) 51-97-97, (067) 350-18-70,
(066) 727-17-62**

3. Було — ?, на 26 пт. м.

Прилетіло — 44 пт.

Відповідь:																			

До с. 10–11



1. Порівняй (>, <, =).

$40 - 9 \square 40 + 1$

$22 + 8 \square 17 + 3$

$50 - 3 \square 50 - 30$

$63 + 7 \square 45 + 5$

2. Розв'яжи задачу.

У кошик поклали 16 яблук, 4 груші, а слив стільки, скільки яблук і груш разом. Скільки всього фруктів поклали в кошик?

Відповідь:																			

3. Устав пропущені числа.

$52 \text{ см} = \square \text{ дм } \square \text{ см}$

$4 \text{ дм } 8 \text{ см} = \square \square \text{ см}$

$3 \text{ м} = \square \square \square \text{ см}$

$3 \text{ м} = \square \square \text{ дм}$

До с. 12–13



1. Обчисли.

$28 + 39 = \square \square$

$71 - 38 = \square \square$

$34 + 56 = \square \square$

$83 - 15 = \square \square$

$28 + 6 = \square \square$

$45 - 8 = \square \square$

2. Розв'яжи задачу.

Господар посадив 19 яблунь, а вишень — на 5 більше. Скільки вишень посадив господар? Скільки всього дерев посадив господар?

Відповідь:

--

3. Накресли один відрізок завдовжки 7 см, а другий — на 5 см довший.

--

До с. 14–15



1. Обчисли зручним способом.

$38 + (5 + 2) = \square\square$

$71 + (5 + 9) = \square\square$

$34 + (6 + 8) = \square\square$

$65 + (4 + 7) = \square\square$

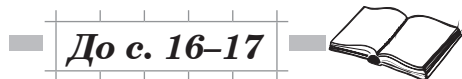

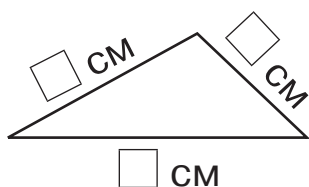
2. Розв'яжи задачу.

Ведмідь зловив 12 рибин, вовк — на 4 рибини менше, ніж ведмідь, а лисиця зловила стільки рибин, скільки ведмідь і вовк разом. Скільки рибин зловила лисиця?

Відповідь:

--

3. Виміряй довжини сторін даного трикутника. Знайди його периметр.




1. Знайди значення виразу.

$$42 - (56 : 7 : 4) + 12 = \square \square$$



2. Розв'яжи задачу.

24 кг картоплі розклали в однакові сітки, по 4 кг в кожну. Три таких сітки продали. Скільки сіток картоплі залишилося?



Відповідь:

3. Різниця довжин двох відрізків дорівнює 9 см. Накресли менший із відрізків, якщо довжина більшого відрізка становить 11 см.

