

**Натисніть тут, щоб
купити книгу на сайті
або замовляйте за телефоном:
(0352) 51-97-97, (067) 350-18-70,
(066) 727-17-62**

ПОВТОРЕННЯ ВИВЧЕНОГО В 3 КЛАСІ. ПИСЬМОВЕ МНОЖЕННЯ І ДІЛЕННЯ

До с. 3–5



1. Обчисли.

$50 - 4 \cdot 6 = \square \square$

$35 + 3 \cdot 6 = \square \square$

$12 : (12 : 3) = \square$


$2 \cdot 6 + 4 \cdot 6 = \square \square$

$600 + 60 = \square \square \square$

$600 + 6 = \square \square \square$

2. Розв'яжи задачу.

Посадили 4 ряди каштанів, по 9 саджанців у кожному ряду, і ще декілька рядів кленів — усього 6 саджанців. У скільки разів більше посадили каштанів, ніж кленів.



До с. 6–7



1. Обчисли.

$700 + 200 = \square \square \square$

$425 - 400 = \square \square$

$700 + 20 = \square \square \square$

$425 - 25 = \square \square \square$

$700 + 2 = \square \square \square$

$525 - 5 = \square \square \square$



1. Обчисли.

$568 + 333 = \square\square\square$


$480 - 360 : 4 = \square\square\square$

$647 - 208 = \square\square\square$

$950 + (750 - 700) = \square\square\square\square$

2. Розв'яжи задачу.

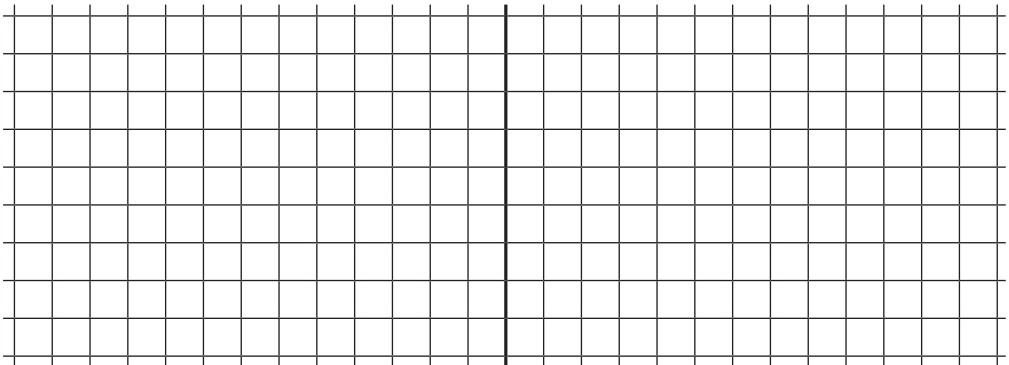
Для робітників агрофірми збудували 3 будинки, по 6 квартир у кожному, і 4 будинки, по 8 квартир у кожному. Скільки всього квартир збудували для робітників агрофірми?



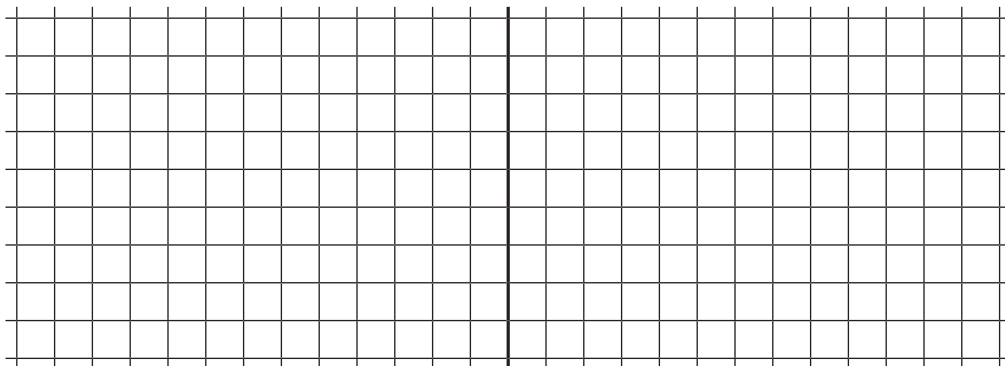
1. Склади та розв'яжи взаємно обернені задачі за поданими короткими записами.

1) 3 ряди — по 9 к. }
5 рядів — по 6 к. } ?

2) 3 ряди — по 9 к. }
5 рядів — ? } 57 к.



$$\left. \begin{array}{l} 3) \text{ 3 ряди — по ?} \\ 5 \text{ рядів — по 6 к.} \end{array} \right\} 57 \text{ к.} \quad \left. \begin{array}{l} 4) ? \text{ — по 9 к.} \\ 5 \text{ рядів — по 6 к.} \end{array} \right\} 57 \text{ к.}$$



2. Обчисли.

$200 \cdot 2 + 300 = \square \square \square$

$736 - 20 \cdot 6 = \square \square \square$


$100 \cdot 7 - 384 = \square \square \square$

$421 - 45 : 9 = \square \square \square$

До с. 13–15




1. Знайди значення виразу $800 - a \cdot 10$, якщо $a = 3$.



2. Розв'яжи задачу.

На склад привезли 620 ц цукру. Протягом 5 днів у магазини відвантажували по 9 ц цукру щодня. Скільки центнерів цукру залишилося на складі?



До с. 19–21



1. Обчисли.

$$\begin{array}{r} 26 \\ \times 3 \\ \hline \square\square \end{array}$$

$$\begin{array}{r} 132 \\ \times 3 \\ \hline \square\square\square \end{array}$$

$$\begin{array}{r} 153 \\ \times 4 \\ \hline \square\square\square \end{array}$$

$$\begin{array}{r} 105 \\ \times 5 \\ \hline \square\square\square \end{array}$$

2. Розв'яжи задачу.

В'язальниця на шарф витратила 216 г пряжі. Скільки грамів пряжі витратить в'язальниця на 3 шарфи?



До с. 21–23



1. Виконай дії.

$$55 \text{ с} - 28 \text{ с} = \square\square \text{ с}$$


$$2 \text{ год} : 3 = \square\square \text{ хв}$$

$$32 \text{ год} + 64 \text{ год} = \square\square \text{ год}$$

$$5 \text{ хв} \cdot 10 = \square\square \text{ хв}$$

2. Розв'яжи задачу.

Поїзд відійшов від станції А о 10 год 30 хв і прибув на станцію В о 18 год 40 хв. Скільки часу поїзд був у дорозі?



До с. 23–24



1. Обчисли.

$$205 + 102 \cdot 6 = \square\square\square$$

$$8 \cdot 101 - 348 = \square\square\square$$

