

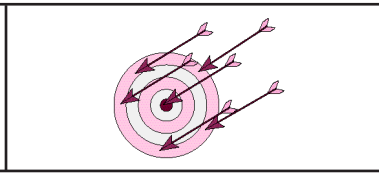
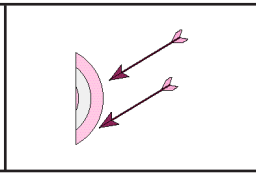
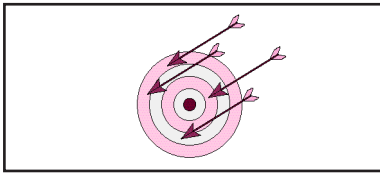


1. На гілці сиділа пташка. До неї прилетіло ще дві. Іванко вважає, що він склав задачу. А ти як гадаєш? Постав питання до задачі. Розв'яжи її.

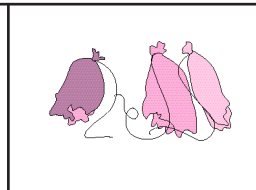
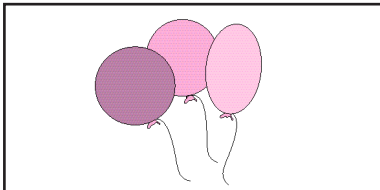


$$\square + \square = \square$$

2. Склади задачі за малюнками. Розв'яжи їх.

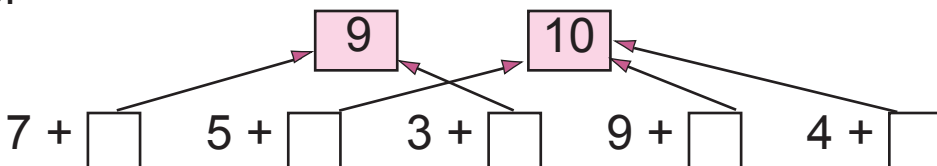


$$\square + \square = \square$$



$$\square - \square = \square$$

3.




4. Знайди довжину ламаної лінії.



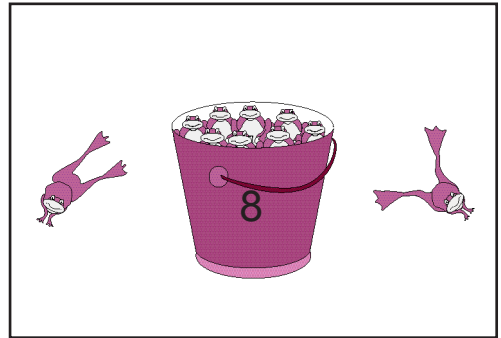
$$\square + \square + \square = \square \text{ (см)}$$



1. Склади задачі за малюнками. Розв'яжи їх.



$$\square + \square = \square$$



$$\square - \square = \square$$

2. Підкресли більше число.

7 і 9

8 і 5

10 і 9

6 і 10

3. Обведи число.

наступне за числом 4

3, 5, 6, 7

попереднє до числа 3

5, 2, 7, 9

4. Постав потрібний знак (>, <).

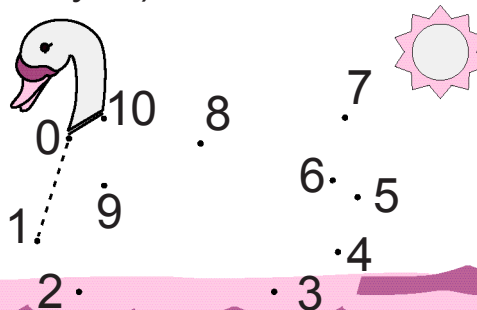
9 > 8

10 8

8 10

5 4

5. Допоможи Незнайкові закінчити малюнок. З'єднай точки (починай з нуля).



1. Андрійко знайшов 4 грибочки, а Петрик — 3.
Скільки грибів знайшли вони разом?

$$\boxed{4} \quad \square \quad \boxed{3} = \square$$

2. Оля мала 6 листівок. 2 листівки вона віддала сестричці. Скільки листівок залишилося в Олі?

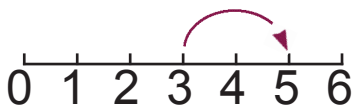


$$\boxed{6} \quad \square \quad \boxed{2} = \square$$

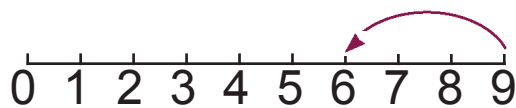
3. Обведи синім кольором найменше число, а червоним — найбільше.

3 5 7 6	4 3 2 1
4 5 6 8	6 7 8 10

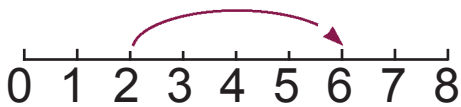
4. Склади і запиши приклади.



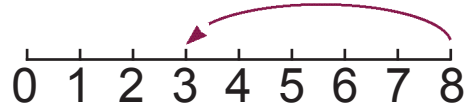
$$3 + 2 =$$



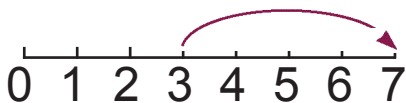
$$9 - 3 =$$



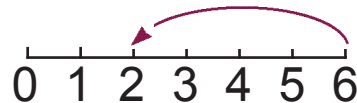
$$\boxed{2} \quad \square \quad \square = \square$$



$$\boxed{8} \quad \square \quad \square = \square$$



$$\square \quad \square \quad \square = \square$$



$$\square \quad \square \quad \square = \square$$

