


**Натисніть тут, щоб
купити книгу на сайті
або замовляйте за телефоном:
(0352) 51-97-97, (067) 350-18-70,
(066) 727-17-62**



Маса п'яти однакових ваз
3 кг 800 г. Яка маса 12 таких
ваз?



«ПЛЮС»

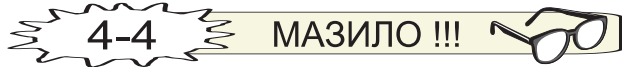



Від однієї пристані у протилежних напрям-
ках одночасно вирушили два моторні чов-
ни. Через 6 годин відстань між ними була
378 км. Яка швидкість другого човна, якщо
швидкість першого — 35 км/год?



«МІНУС»

РЕЗУЛЬТАТ






Екскурсія тривала 2 год 30 хв, причому дорога зайняла $\frac{2}{5}$ усього часу, а решта часу туристи оглядали визначні місця. Скільки часу туристи оглядали визначні місця?



«ПЛЮС»

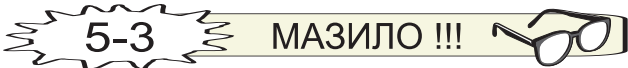
РЕЗУЛЬТАТ



На пошиття 12 однакових суконь витратили 48 м тканини. Скільки таких суконь можна пошити із 72 м тканини?



«МІНУС»





Учні мали посадити 644 дерева за 7 днів. Перші три дні вони саджали щодня по 80 дерев. По скільки дерев доведеться саджати учням у кожен із наступних днів, щоб виконати завдання вчасно?



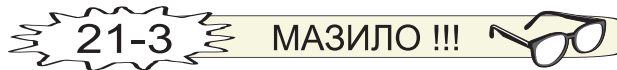
«ПЛЮС»



Змішали 4 кг печива ціною 24 грн 20 к. за кілограм і 2 кг печива ціною 14 грн 60 к. за кілограм. Знайди ціну 1 кг суміші.



РЕЗУЛЬТАТ





Велосипедист за вітром їхав зі швидкістю 15 км/год і проїхав 30 км. Цю ж відстань проти вітру він подолав зі швидкістю 10 км/год. Скільки всього годин був у дорозі велосипедист?




«ПЛЮС»



ГОЛ !!!



РЕЗУЛЬТАТ



Першого дня робітники виготовили 3 однакові шафи, а другого дня — 5 таких самих шаф, причому першого дня на шафи використали на 36 дощок менше, ніж другого. Скільки дощок використали першого і другого дня окремо, якщо на кожен шафу витрачали однакову кількість дощок?



«МІНУС»

МАЗИЛО !!!

