





1 ПОЗАДУ, ПОРУЧ, МІЖ




Полічи, скільки тварин. Обведи тварину, яка знаходиться попереду вовка; позаду зайчика.



Знайди геометричні фігури, які “заховалися” в малюнках. Поруч з лялькою намалюй м'ячик.



Допоможи їжачкові “дістатися” до яблука. Проведи лінію посередині доріжки, не відриваючи олівець від аркуша.





2

РОЗРІЗНЕННЯ ПРЕДМЕТІВ ЗА КОЛЬОРОМ



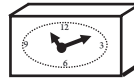
Назви овочі та фрукти. Полічи. Розфарбуй.




Намалюй пропущену фігуру.



Добери предмети за формою.



Обведи фігури. Кругечки зафарбуй синім
кольором, а квадратики — червоним.






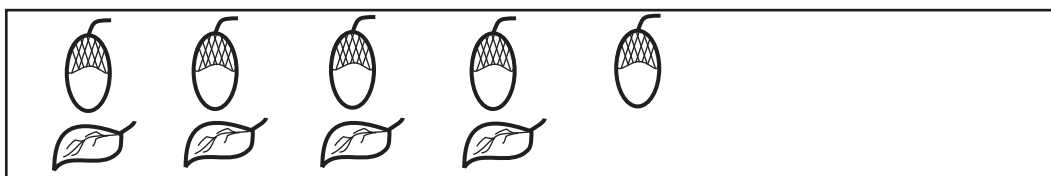
Допоможіть Кроликові прийняти гостей.

● Скільки потрібно чашок, блюдець?




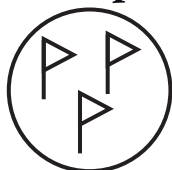
Як зробити, щоб їх стало порівну?



Домалюй предмети, щоб їх стало порівну.



Розфарбуй кружечки, у яких кількість предметів однакова.





15 ЛІЧБА ПРЕДМЕТІВ



Полічи, скільки іграшок на малюнку.

Розфарбуй другу і четверту ляльки.



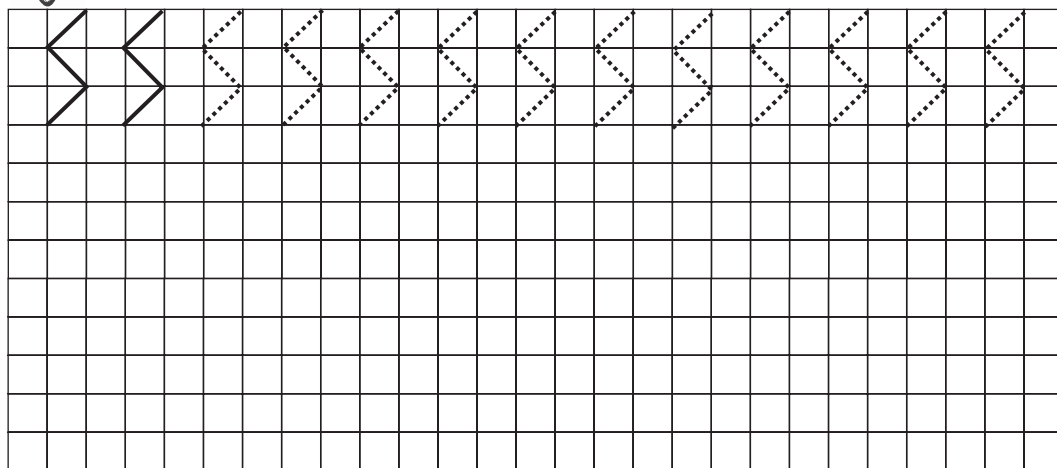
Скільки жучків? мурашок? метеликів?

Намалюй в смужках відповідну кількість

кружечків.



Виконай завдання за зразком.





28 число 9



Полічи. Домалюй ще один листочок.

Скільки стало листочків?



Заповни таблицю за зразком.

9	• • • •	• • • •	• • •	• • •
	• • • •	• • •	• • •	• •
	•			




Обведи найбільше число, підкресли найменше.

7 4 2 8 5 9



Знайди помилки, які допустив Незнайко.

Домалюй відповідну кількість квіточок.






29 число 10



Як утворилось число 10? Прочитай приклад.

10



$$9 + 1 =$$



Домалюй необхідну кількість предметів.

10



Склади і запиши приклади.



$$\square + \square = \square$$



$$\square + \square = \square$$



$$\square + \square = \square$$



$$\square + \square = \square$$



Виконай завдання за зразком.

