

**Натисніть тут, щоб  
купити книгу на сайті  
або замовляйте за телефоном:  
(0352) 51-97-97, (067) 350-18-70,  
(066) 727-17-62**

Нова  українська школа

Марко Беденко

**МАТЕМАТИКА З УСМІШКОЮ**  
**МАВПОЧКА ЧІТА**  
**РОБОЧИЙ ЗОШИТ**

Додавання та віднімання в межах 100  
2 клас



ТЕРНОПІЛЬ  
НАВЧАЛЬНА КНИГА – БОГДАН

ББК 74.262.21

Б38

*Схвалення для використання у закладах загальної середньої освіти  
підтверджується відповідним листом ІМЗО  
(<https://bohdan-books.com/grifmon/>)*

### **Беденко Марко**

**Б38** Математика з усмішкою. Мавпочка Чіта : робочий зошит :  
додавання та віднімання в межах 100 : 2 кл. / Марко Беден-  
ко. — Тернопіль : Навчальна книга – Богдан, 2019. — 32 с.  
2005000013447

«Математика з усмішкою» — це серія оригінальних зошитів  
для початкової школи.

Гадаємо, дітей зацікавлять приклади, подані у нестандартній  
формі, та задачі, що, власне, є веселими історіями, в яких діють  
кмітливі і симпатичні герої (до речі, в кожному зошиті — інші).

Цей зошит містить числові кросворди, зашифровані слова та  
задачі про кумедну мавпочку Чіту.

Відповідає Державному стандарту початкової освіти, типовим  
освітнім програмам та чинним підручникам.

**ББК 74.262.21**

*Охороняється законом про авторське право.  
Жодна частина цього видання не може бути відтворена  
в будь-якому вигляді без дозволу видавництва.*

*Навчальне видання*

**БЕДЕНКО Марко**

**МАТЕМАТИКА З УСМІШКОЮ**

**МАВПОЧКА ЧІТА**

**Робочий зошит**

**Додавання та віднімання в межах 100**

**2 клас**

Головний редактор *Богдан Будний*

Редактор *Любов Левчук*

Художник *Валентин Качурівський*

Обкладинка *Ростислава Крамара*

Комп'ютерна верстка *Галини Телев'як*

Підписано до друку 01.02.2019. Формат 70×100/16. Папір офсетний.  
Гарнітура Шкільна. Умовн. друк. арк. 2,6. Умовн. фарбо-відб. 2,6.

Видавництво «Навчальна книга – Богдан»

Свідоцтво про внесення суб'єкта видавничої справи до Державного реєстру видавців,  
виготівників і розповсюджувачів видавничої продукції ДК № 4221 від 07.12.2011 р.

Навчальна книга – Богдан, просп. С. Бандери, 34а, м. Тернопіль, 46002

Навчальна книга – Богдан, а/с 529, м. Тернопіль, 46008

тел./факс (0352) 52-06-07; 52-05-48 [office@bohdan-books.com](mailto:office@bohdan-books.com) [www.bohdan-books.com](http://www.bohdan-books.com)

Видавництво «Навчальна книга – Богдан» у соцмережах:



bohdanbooks



bohdan\_books



YouTube c/NKBohdan



t.me/bohdanbooks

2005000013447

© Навчальна книга – Богдан, 2019

У зоопарку живуть різні звірята.

Нещодавно там поселилася мавпочка Чіта з далекої Бразилії. Ніби не так давно приїхала, а без неї вже й зоопарк не зоопарк. І за що її всі люблять?

Прочитай книжечку — дізнаєшся!

### Умовні позначення:



— відгадай слово



— чарівний ключик



— числовий кросворд



— числовий рядок

### Зразки виконання завдань



#### 1. Зашифровані слова

Виконавши арифметичні дії, ти отримаєш число. Це — зашифроване слово, а ключ до шифру — букви в рамочці. Кожній цифрі відповідає певна літера.


А	Б	В	Г	Ґ	Д	Е	Є	Ж	З	И	І	Ї	Й	К	Л	М
1	2	3	4	5	6	7	8	9	10	11	12	13	14	15	16	17
Н	О	П	Р	С	Т	У	Ф	Х	Ц	Ч	Ш	Щ	Ь	Ю	Я	
18	19	20	21	22	23	24	25	26	27	28	29	30	31	32	33	

Подивись, як ми відгадали перше слово.

$$56 - 40 = \begin{array}{|c|c|c|} \hline 1 & 6 & \text{Л} \\ \hline \end{array}$$
$$20 - 8 = \begin{array}{|c|c|c|} \hline 1 & 2 & \text{І} \\ \hline \end{array}$$
$$20 + 2 = \begin{array}{|c|c|c|} \hline 2 & 2 & \text{С} \\ \hline \end{array}$$

Відгадати наступне слово допоможе цей малюнок.

$$29 - 7 = \begin{array}{|c|c|c|} \hline & & \\ \hline \end{array}$$
$$6 + 10 = \begin{array}{|c|c|c|} \hline & & \\ \hline \end{array}$$
$$20 - 1 = \begin{array}{|c|c|c|} \hline & & \\ \hline \end{array}$$
$$9 + 9 = \begin{array}{|c|c|c|} \hline & & \\ \hline \end{array}$$





## 2. Числовий рядок

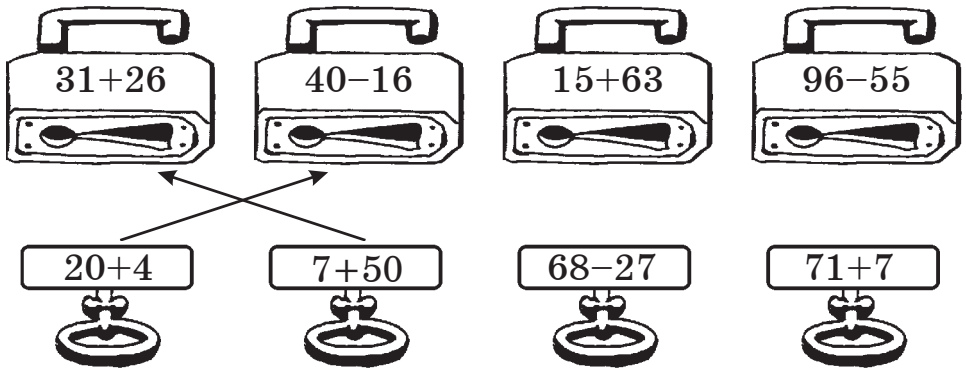
Розв'яжи приклади. Відповіді записуй у клітинках, на які вказують стрілки. Відповідь в останньому прикладі має збігатися з першим числом у рядку.

$$\boxed{5}\boxed{1} + 30 \rightarrow \boxed{\phantom{00}} + 8 \rightarrow \boxed{\phantom{00}} - 25 \rightarrow \boxed{\phantom{00}} - 13 \rightarrow \boxed{5}\boxed{1}$$



## 3. Чарівний ключик

Кожен ключик підходить лише до одного замка. З'єднай їх стрілками.



## 4. Числовий кросворд

Розв'яжи горизонтальні та вертикальні приклади у кожному прямокутнику. Із цих відповідей склади два нових приклади. Якщо все виконаєш правильно, отримаєш одне й те саме число.

2	0	+	1	5	=	3	5
+			+		+		
1	2	+	1	3	=	2	5
=			=		=		
3	2	+	2	8	=	6	0

7	9	-	3	6	=		
-			-		-		
4	1	-	2	0	=		
=			=		=		
		-			=		







А	Б	В	Г	Ґ	Д	Е	Є	Ж	З	И	І	Ї	Й	К	Л	М
1	2	3	4	5	6	7	8	9	10	11	12	13	14	15	16	17
Н	О	П	Р	С	Т	У	Ф	Х	Ц	Ч	Ш	Щ	Ь	Ю	Я	
18	19	20	21	22	23	24	25	26	27	28	29	30	31	32	33	

4



$75-72=$	<input type="text"/>	<input type="text"/>	<input type="text"/>	$10+12=$	<input type="text"/>	<input type="text"/>	<input type="text"/>	$50-46=$	<input type="text"/>	<input type="text"/>	<input type="text"/>
$43-32=$	<input type="text"/>	<input type="text"/>	<input type="text"/>	$6+10=$	<input type="text"/>	<input type="text"/>	<input type="text"/>	$48-27=$	<input type="text"/>	<input type="text"/>	<input type="text"/>
$6+23=$	<input type="text"/>	<input type="text"/>	<input type="text"/>	$97-86=$	<input type="text"/>	<input type="text"/>	<input type="text"/>	$4+20=$	<input type="text"/>	<input type="text"/>	<input type="text"/>
$10+8=$	<input type="text"/>	<input type="text"/>	<input type="text"/>	$68-65=$	<input type="text"/>	<input type="text"/>	<input type="text"/>	$12+17=$	<input type="text"/>	<input type="text"/>	<input type="text"/>
$40-7=$	<input type="text"/>	<input type="text"/>	<input type="text"/>	$30-29=$	<input type="text"/>	<input type="text"/>	<input type="text"/>	$87-86=$	<input type="text"/>	<input type="text"/>	<input type="text"/>

5



$50-25$



$1+20$



$61+1$



$36-6$



6



$90-70=$	<input type="text"/>	<input type="text"/>	<input type="text"/>	$10+11=$	<input type="text"/>	<input type="text"/>	<input type="text"/>	$79-73=$	<input type="text"/>	<input type="text"/>	<input type="text"/>
$56-35=$	<input type="text"/>	<input type="text"/>	<input type="text"/>	$15-14=$	<input type="text"/>	<input type="text"/>	<input type="text"/>	$2+10=$	<input type="text"/>	<input type="text"/>	<input type="text"/>
$5+14=$	<input type="text"/>	<input type="text"/>	<input type="text"/>	$2+12=$	<input type="text"/>	<input type="text"/>	<input type="text"/>	$20-18=$	<input type="text"/>	<input type="text"/>	<input type="text"/>
$89-72=$	<input type="text"/>	<input type="text"/>	<input type="text"/>	$80-74=$	<input type="text"/>	<input type="text"/>	<input type="text"/>	$66-45=$	<input type="text"/>	<input type="text"/>	<input type="text"/>
$40-28=$	<input type="text"/>	<input type="text"/>	<input type="text"/>	$10+14=$	<input type="text"/>	<input type="text"/>	<input type="text"/>	$6+13=$	<input type="text"/>	<input type="text"/>	<input type="text"/>
$8+10=$	<input type="text"/>	<input type="text"/>	<input type="text"/>	$94-90=$	<input type="text"/>	<input type="text"/>	<input type="text"/>	$58-55=$	<input type="text"/>	<input type="text"/>	<input type="text"/>
$20+11=$	<input type="text"/>	<input type="text"/>	<input type="text"/>	$40-39=$	<input type="text"/>	<input type="text"/>	<input type="text"/>	$60-59=$	<input type="text"/>	<input type="text"/>	<input type="text"/>