

**УЗАГАЛЬНЮЄМО І СИСТЕМАТИЗУЄМО
ВИВЧЕНЕ У 2 КЛАСІ. ВИВЧАЄМО РІВНЯННЯ**

Повторюємо нумерацію чисел у межах 100

№№1–9, с. 4–5

1 варіант

1. Записати числа, які пропущено.
74, ..., 76, 77, ..., ..., ..., 81, ..., 83.
2. Записати всі числа від ...
 - а) сорока до п'ятдесяти;
 - б) вісімдесяти до дев'яноста п'яти.
3. Кожне з чисел 37, 24, 61, 77 записати у вигляді суми розрядних доданків.
4. Обчислити.

$49 - 1 - 48$	$24 - 24 + 1$
$6 + 4 + 0$	$0 + 45 - 1$
$39 - 10 + 1$	$96 - 0 - 96$
$28 + 1 - 29$	$76 - 6 + 1$
5. Розв'язати задачі.
 1. У їдальню привезли 24 кг картоплі, буряку — на 10 кг менше, ніж картоплі, а моркви — на 1 кг більше, ніж буряку. Скільки кілограмів моркви привезли в їдальню?
 2. В автобусі їхало 20 чоловіків, а жінок — на 1 менше. Скільки всього пасажирів їхало в автобусі?

2 варіант

1. Записати числа, які пропущено.
65, ..., ..., 68, ..., ..., 71, ..., ..., 74.
2. Записати всі числа від ...
 - а) тридцяти одного до сорока двох;
 - б) сімдесяти до вісімдесяти п'яти.

3. Кожне з чисел 28, 16, 41, 55 записати у вигляді суми розрядних доданків.

4. Обчислити.

$$59 - 1 - 58$$

$$15 - 15 + 1$$

$$3 + 7 - 0$$

$$0 + 62 - 1$$

$$24 - 10 + 1$$

$$34 - 0 - 34$$

$$68 + 1 - 69$$

$$42 - 2 + 1$$

5. Розв'язати задачі.

1. У першому мотку було 25 м дроту, у другому — на 10 м більше, ніж у першому, а в третьому — на 1 м менше, ніж у другому. Скільки метрів дроту було в третьому мотку?

2. Улітку Василько доглядав за яблунями та грушами. Яблунь було 10, а груш — на 1 менше. Скільки всього дерев доглядав хлопчик?

Додаємо і віднімаємо числа частинами

№№1-7, с. 6-7

1 варіант

1. Обчислити з поясненням за зразком.

Зразок: $26 + 5 = (26 + 4) + 1 = 30 + 1 = 31$

$$66 + 15$$

$$52 - 16$$

$$25 + 27$$

$$43 - 27$$

2. Порівняти (>, <, =).

$$40 \square 18$$

$$25 \square 45$$

$$26 \square 31$$

$$94 \square 35$$

3. Уставити пропущені числа.

$$43 + \square = 52$$

$$54 - \square = 38$$

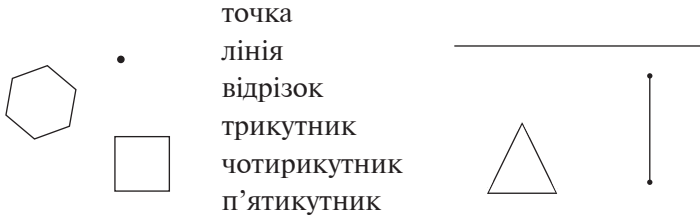
$$58 + \square = 74$$

$$\square - 18 = 36$$

4. Розв'язати задачі.

1. На першій полиці стояло 35 книжок, а на другій — 26. На скільки менше книжок на другій полиці, ніж на першій?
2. Бабусі — 54 роки, а внучці — 17. На скільки років бабуся старша за внучку?

5. З'єднати кожну зображену геометричну фігуру з її назвою.



2 варіант

1. Обчислити з поясненням за зразком.

Зразок: $24 + 7 = (24 + 6) + 1 = 30 + 1 = 31$

$47 + 6$

$52 - 18$

$42 + 29$

$65 - 29$

2. Порівняти (>, <, =).

$51 \square 29$

$48 \square 69$

$35 \square 62$

$63 \square 25$

3. Уставити пропущені числа.

$28 + \square = 64$

$\square - 23 = 48$

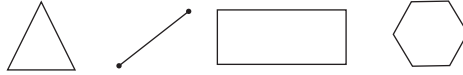
$\square + 35 = 80$

$92 - \square = 36$

4. Розв'язати задачі.

1. Секцію з плавання відвідувало 32 дівчаток і 28 хлопчиків. На скільки більше дівчаток, ніж хлопчиків, відвідувало секцію з плавання?
2. У лісі посадили 18 саджанців дубків і 24 саджанці ялинок. На скільки менше посадили саджанців дубків, ніж ялинок?

5. Яка фігура «зайва»? Пояснити, чому.



Складаємо і розв'язуємо обернені задачі до даної

№№1-8, с. 8-9

1 варіант

1. Обчислити з поясненням за зразком.

Зразок: $83 - 24 = 83 - (20 + 4) = 63 - 4 = 59$

$96 - 38$ $54 - 27$

$75 - 16$ $61 - 25$

2. Порівняти (>, <, =).

$23 + 47$ $23 + 45$ $45 - 25$ $45 - 22$

$63 + 29$ $29 + 36$ $35 - 16$ $38 - 16$

3. Скласти та розв'язати три взаємно обернені задачі за поданими короткими записами.

1) Було — 18 пт.

2) Було — 18 пт.

Прилетіло — ?, на 26 пт. б.

Прилетіло — 44 пт.

на ?

3) Було — ?, на 26 пт. м.

Прилетіло — 44 пт.

2 варіант

1. Обчислити з поясненням за зразком.

Зразок: $42 - 27 = 42 - (20 + 7) = 22 - 7 = 15$

$38 - 19$ $74 - 39$

$83 - 25$ $95 - 48$

2. Порівняти (>, <, =).

$58 + 25$ $58 + 24$ $93 - 47$ $93 - 42$

$49 + 38$ $38 + 94$ $55 - 29$ $58 - 29$

3. Скласти та розв'язати три взаємно обернені задачі за поданими короткими записами.

1) Було — 15 кг

Використали — 8 кг

Залишилося — ?

2) Було — 15 кг

Використали — ?

Залишилося — 7 кг

2) Було — ?

Використали — 8 кг

Залишилося — 7 кг

Розв'язуємо складені задачі

№№1–6, с. 10–11

1 варіант

1. Обчислити. До кожної рівності на додавання скласти по дві рівності на віднімання.

$53 + 19$

$24 + 18$

$12 + 39$

2. Уставити пропущені числа.

$86 \text{ см} = \square \text{ дм } \square \text{ см}$

$5 \text{ дм } 4 \text{ см} = \square \text{ см}$

$2 \text{ м} = \square \text{ см}$

$2 \text{ м} = \square \text{ дм}$

3. Порівняти ($>$, $<$, $=$).

$40 - 9 \square 40 + 1$

$22 + 8 \square 17 + 3$

$50 - 3 \square 50 - 30$

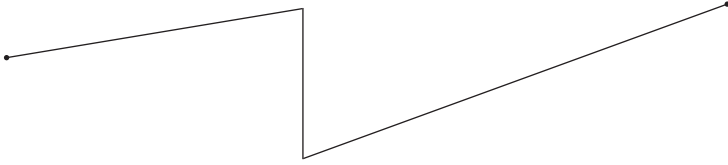
$63 + 7 \square 45 + 5$

4. Розв'язати задачі.

1. У першій вазі 7 цукерок, у другій — 20 цукерок, а в третій — 13. Скільки всього цукерок у трьох вазах?

2. У кошик поклали 16 яблук, 4 груші, а слив стільки, скільки яблук і груш разом. Скільки всього фруктів поклали в кошик?

5. Виміряти довжину кожної ланки ламаної. Обчислити загальну довжину ламаної.



2 варіант

1. Обчислити. До кожної рівності на додавання скласти по дві рівності на віднімання.

$45 + 15$

$35 + 16$

$18 + 24$

2. Уставити пропущені числа.

$52 \text{ см} = \square \text{ дм } \square \text{ см}$

$4 \text{ дм } 8 \text{ см} = \square \text{ см}$

$3 \text{ м} = \square \text{ см}$

$3 \text{ м} = \square \text{ дм}$

3. Порівняти ($>$, $<$, $=$).

$60 - 8 \square 60 + 8$

$36 + 4 \square 28 + 2$

$40 - 4 \square 40 - 40$

$54 + 6 \square 60 + 0$

4. Розв'язати задачі.

1. Уранці на пошту привезли 38 посилок, удень — 2 посилки, а ввечері — 14. Скільки всього посилок привезли на пошту за весь день?
2. З першої ділянки зібрали 14 кг моркви, з другої — 16 кг, а з третьої стільки, скільки з першої і другої разом. Скільки кілограмів моркви зібрали з трьох ділянок?
5. Виміряти довжину кожної ланки ламаної. Обчислити загальну довжину ламаної.



Досліджуємо задачі

№№1–5, с. 12–13

1 варіант

1. Обчислити.

$29 + 68$

$28 + 6$

$92 - 9$

$34 + 26$

$71 - 38$

$55 - 28$

2. Знайти значення виразу.

$45 + 5 \cdot (25 : 5) - 20$

3. Виконати дії.

$24 \text{ см} + 10 \text{ см}$

$1 \text{ м} - 4 \text{ дм}$

$63 \text{ см} - 19 \text{ см}$

$7 \text{ дм} - 41 \text{ см}$

$1 \text{ м} - 29 \text{ см}$

$1 \text{ м} - 6 \text{ дм} 2 \text{ см}$

4. Розв'язати задачі.

1. На першій полиці 46 книг, а на другій — на 5 книг більше. Скільки книг на другій полиці? Скільки книг на двох полицях разом?
2. У трьох класах 80 дітей. У першому класі — 24 дитини, в другому — на 7 дітей більше, ніж у першому, а в третьому — решта. Скільки дітей у третьому класі?

5. Накреслити один відрізок завдовжки 9 см, а другий — на 3 см довший.

2 варіант

1. Обчислити.

$28 + 39$

$39 + 8$

$83 - 15$

$34 + 56$

$61 - 29$

$45 - 6$

2. Знайти значення виразу.

$(56 + 4 \cdot 2) : 8 + (72 : 8 + 10)$

3. Виконати дії.

$18 \text{ см} + 20 \text{ см}$

$1 \text{ м} - 52 \text{ см}$

$6 \text{ дм} - 32 \text{ см}$

$52 \text{ см} - 18 \text{ см}$

$1 \text{ м} - 3 \text{ дм}$

$1 \text{ м} - 2 \text{ дм} 5 \text{ см}$

4. Розв'язати задачі.

1. Господар посадив 19 яблунь, а вишень — на 5 більше. Скільки вишень посадив господар? Скільки всього дерев посадив господар?
 2. У трьох мішках 1 ц картоплі. У першому мішку 42 кг, у другому — на 7 кг менше, ніж у першому, а в третьому — решта. Скільки кілограмів картоплі в третьому мішку?
5. Накреслити один відрізок завдовжки 7 см, а другий — на 5 см довший.

Додаємо і віднімаємо числа порозрядно

№№1–6, с. 14–15

1 варіант

1. Продовжити розв'язання.

$$45 + 26 = (40 + 20) + (5 + 6) = \dots$$

$$64 - 28 = (50 - 20) + (14 - 8) = \dots$$

2. Обчислити.

$$38 + (5 + 2)$$

$$42 + (3 + 9)$$

$$34 + (6 + 7)$$

$$66 + (6 + 8)$$

3. Порівняти ($>$, $<$, $=$).

$$48 \text{ см} \square 4 \text{ см } 8 \text{ см}$$

$$3 \text{ доби } 1 \text{ год} \square 50 \text{ год}$$

$$9 \text{ дм } 5 \text{ см} \square 59 \text{ см}$$

$$2 \text{ роки} \square 24 \text{ міс.}$$

4. Розв'язати задачі.

1. Ведмідь зловив 12 рибин, вовк — на 4 рибини менше, ніж ведмідь, а лисиця зловила стільки рибин, скільки ведмідь і вовк разом. Скільки рибин зловила лисиця?
 2. З першої грядки зібрали 8 кг полуниці, а з другої — на 6 кг більше. Скільки кілограмів полуниць зібрали з двох грядок разом?
5. Накреслити трикутник зі сторонами завдовжки 2 см, 3 см, 4 см. Знайти суму його довжин.

2 варіант

1. Продовжити розв'язання.

$$36 + 17 = (30 + 10) + (6 + 7) \dots$$

$$73 - 36 = (60 - 30) + (13 - 6) = \dots$$

2. Обчислити.

$$52 + (7 + 6)$$

$$71 + (5 + 9)$$

$$28 + (9 + 4)$$

$$65 + (4 + 7)$$

3. Порівняти ($>$, $<$, $=$).

$$56 \text{ см } \square 5 \text{ дм } 5 \text{ см}$$

$$2 \text{ доби } 4 \text{ год } \square 40 \text{ год}$$

$$8 \text{ дм } 2 \text{ см } \square 82 \text{ см}$$

$$1 \text{ рік } \square 15 \text{ міс.}$$

4. Розв'язати задачі.

1. З першої ділянки зібрали 15 кг цибулі, з другої — на 6 кг менше, ніж з першої, а з третьої зібрали стільки цибулі, скільки з першої і другої ділянки разом. Скільки кілограмів цибулі зібрали з третьої ділянки?

2. У сестри було 12 фломастерів, а в її брата — на 4 фломастери менше. Скільки фломастерів було в сестри та брата разом?

5. Накреслити трикутник зі сторонами 5 см, 6 см, 8 см. Знайти суму його довжин.

Досліджуємо задачі на знаходження різниці

№№1–5, с. 16–17

1 варіант

1. Обчислити.

$$53 - (4 + 5)$$

$$74 - (7 + 6)$$

$$65 - (8 + 7)$$

$$81 - (9 + 9)$$

2. Виконати дії.

$$37 \text{ кг} + 35 \text{ кг}$$

$$29 \text{ см} + 43 \text{ см}$$

$$1 \text{ ц} - 45 \text{ кг}$$

$$56 \text{ хв} + 28 \text{ хв}$$

$$1 \text{ м} - 32 \text{ см}$$

$$76 \text{ грн} - 29 \text{ грн}$$

3. Знайти значення виразу.

$$42 - (56 : 7 : 4) + 12$$

4. Розв'язати задачі.

1. 24 кг картоплі розклали у 4 сітки порівну. Три сітки продали. Скільки сіток картоплі залишилося?

2. У Іванка було 16 зошитів. Він використав 4 зошити в лінійку і 6 зошитів — у клітинку. Скільки зошитів залишилося в Іванка?

5. Різниця довжин двох відрізків дорівнює 9 см. Накреслити менший із відрізків, якщо довжина більшого відрізка становить 11 см.

2 варіант

1. Обчислити.

$$96 - (3 + 5)$$

$$78 - (9 + 7)$$

$$42 - (6 + 1)$$

$$34 - (7 + 6)$$

2. Виконати дії.

$$42 \text{ кг} + 29 \text{ кг}$$

$$35 \text{ см} + 16 \text{ см}$$

$$1 \text{ ц} - 23 \text{ кг}$$

$$48 \text{ хв} + 53 \text{ хв}$$

$$1 \text{ м} - 45 \text{ см}$$

$$45 \text{ грн} - 18 \text{ грн}$$

3. Знайти значення виразу.

$$53 - (12 - 18 : 6) \cdot 2$$

4. Розв'язати задачі.

1. 32 кг цукерок розклали у 8 пакетів порівну. Два пакети подарували. Скільки пакетів з цукерками залишилося?

2. Бабуся спекла 24 налисника. Онук з'їв 6 налисників, а онучка — 5 налисників. Скільки налисників залишилося?

5. Різниця довжин двох відрізків дорівнює 8 см. Накреслити більший із відрізків, якщо довжина меншого відрізка становить 5 см.