

ПЕРЕДМОВА ДЛЯ ДОРΟΣЛИХ

Зошит з математики для 1 класу (частина 2) містить матеріал, що відповідає оновленій навчальній програмі Міністерства освіти і науки України та підручнику “Математика. 1 клас” (автори Будна Н.О., Беденко М.В.).

Кожна сторінка зошита (за винятком сс. 40–41) — це урок, причому теми уроків у зошиті й підручнику аналогічні. Пропоновані завдання спрямовані на формування й закріплення арифметичних навичок та розвиток математичних уявлень наймолодших школярів, а також на вивчення нового матеріалу через практичну діяльність.

Більшість сторінок містить вільні клітинки, на яких учні можуть виконувати додаткові завдання.

Умовні позначення



— порівняй;



— кругові приклади.

ЗАДАЧА

- 1 На шахівниці стояло 4 пішаки. Три пішаки забрали. Скільки пішаків залишилося на шахівниці?

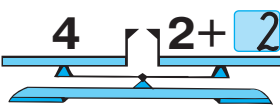
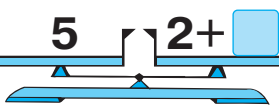
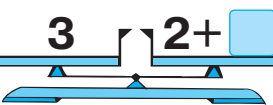
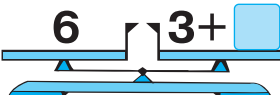
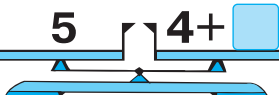
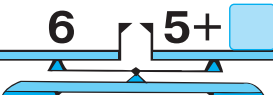
СТОЯЛО 4 	ЗАБРАЛИ 3 	ЗАЛИШИЛОСЯ ? 
--	---	--

Розв'язання




Відповідь:

2

- 3 Накресли трикутник, більший за даний.



СКЛАДАННЯ ЗАДАЧ ЗА МАЛЮНКАМИ

1 **БУЛО** **ВИТЯГЛИ** **ЗАЛИШИЛОСЯ**
5  1  ? 

Розв'язання



Відповідь:

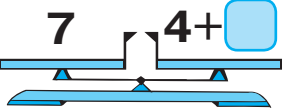
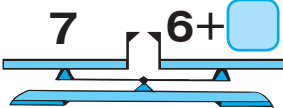
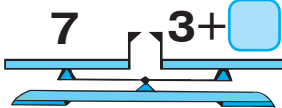
2 Намалювали чотири  і два . Скільки всього кружечків намалювали?


Розв'язання



Відповідь:

3 Знайди суму чисел 3 і 5.

4   



УМОВА І ЗАПИТАННЯ ЗАДАЧІ

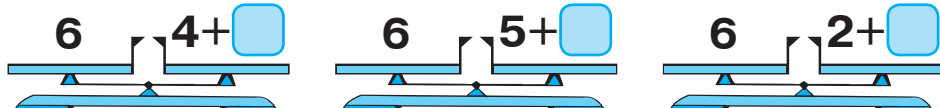
- 1** У бабусі було 10 мотків ниток.
Із 5 мотків вона зв'язала шкарпетки.
Скільки мотків ниток залишилося
в бабусі?



Підкресли запитання задачі.

Розв'язання

Відповідь: _____

- 2** 

- 3** Обведи найменше з даних чисел: 3, 9, 7, 2, 4.

- 4** Намалювали чотири  і три . Скільки всього фігур намалювали?

Розв'язання

Відповідь: _____

СКЛАДАННЯ ЗАДАЧ

1

3



2



УСЬОГО
КВІТІВ
?

Розв'язання



Відповідь:



2

На клумбі розцвіло 5 тюльпанів. Три тюльпани зрізали на букет. Скільки тюльпанів залишилося цвісти на клумбі?

Підкресли умову задачі.

Розв'язання



Відповідь:



3

Запиши число, що дорівнює сумі двох п'ятірок.



4

$2+2=$


$3+3=$

$4+4=$

$5-2=$

$5-3=$

$5-4=$



ДОДАВАННЯ ТА ВІДНІМАННЯ ЧИСЛА 1

- 1 У вазі було 7 цукерок. Одну цукерку з'їли. Скільки цукерок залишилось у вазі?

БУЛО
7 

З'ЇЛИ
1 

ЗАЛИШИЛОСЯ
? 

Розв'язання

Відповідь:

2

