


**Натисніть тут, щоб  
купити книгу на сайті  
або замовляйте за телефоном:  
(0352) 51-97-97, (067) 350-18-70,  
(066) 727-17-62**




4. Розташувати подані іменовані числа в порядку спадання.

5 дн. 12 год, 2 тижд., 1 рік, 5 діб, 2 міс. 5 дн., 25 дн., 16 год, 2 міс.




5. Виміряти довжини поданих відрізків. Накреслити відрізок, який на 2 см довший за суму двох даних відрізків.




6. Розв'язати задачу.


Коли на пошті відправили 36 вітальних листівок, то там залишилося ще 12 листівок. Скільки листівок було на пошті?



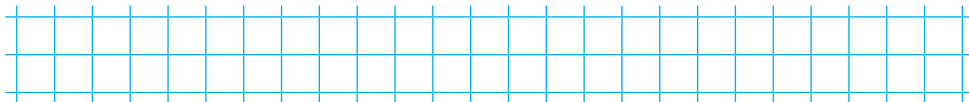
**Додаткові завдання**



**Аналіз діагностичної роботи**



## Додаємо і віднімаємо у межах 20 (комбінована)



Дата

## 1. Обчислити.

$9 + 8$


$18 - (9 + 4)$

$7 + 5$

$9 + 9 - 8$

$17 - 9$

$(8 + 7) - 6$




## 2. Порівняти (&gt;, &lt;, =).

$8 + 9 \square 9 + 4$

$12 - 4 \square 14$


$13 - 6 \square 7$




## 3. Уставити пропущені числа.

$\square + 4 = 9$


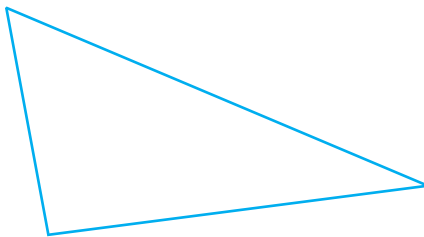
$18 - \square = 9$



4. Знайти суму  $8 + a$ , якщо  $a = 3$ .




5. Виміряти сторони трикутника та знайти його периметр.



6. Розв'язати задачу.

У відро налили 9 л води, у каструлю — 4 л, а в каністру стільки, скільки у відро й каструлю разом. Скільки літрів води налили в каністру?



## ЗМІСТ

<b>Робота 1.</b> Узагальнюємо за 1 клас (комбінована).....	2
<b>Робота 2.</b> Додаємо і віднімаємо у межах 20 (комбінована) .....	5
<b>Робота 3.</b> Розв'язуємо складені задачі. Додаємо і віднімаємо у межах 100 (комбінована) .....	8
<b>Робота 4.</b> Додаємо і віднімаємо у межах 100 (комбінована) ....	11
Підсумкова робота за 1 семестр (тестова).....	14
<b>Робота 5.</b> Арифметичні дії множення та ділення (0, 1, 10, 2, 3) (комбінована).....	17
<b>Робота 6.</b> Арифметичні дії множення та ділення (4, 5, 6) (комбінована) .....	20
<b>Робота 7.</b> Арифметичні дії множення та ділення (7, 8, 9) (комбінована) .....	23
<b>Робота 8.</b> Підсумкова робота за 2 семестр (тестова).....	26