

**Натисніть тут, щоб  
купити книгу на сайті  
або замовляйте за телефоном:  
(0352) 51-97-97, (067) 350-18-70,  
(066) 727-17-62**

Н.О. Будна

# МАТЕМАТИКА

**1** ПЕРШИЙ ВАРІАНТ

## ЗОШИТ

для контрольних робіт

уч \_\_\_\_\_ 4 \_\_\_\_\_ класу

---

---

---

*Схвалено для використання у загальноосвітніх навчальних закладах  
комісією з педагогіки та методики початкового навчання  
Науково-методичної ради з питань освіти  
Міністерства освіти і науки України*



ТЕРНОПІЛЬ  
НАВЧАЛЬНА КНИГА – БОГДАН

УДК 51.372.47

Б 90

Рецензенти:

доктор педагогічних наук, доцент

*Онишків З.М.*

вчитель вищої категорії, вчитель-методист

*Богайчук Р.В.*

*Схвалено для використання у загальноосвітніх навчальних закладах  
комісією з педагогіки та методики початкового навчання*

*Науково-методичної ради з питань освіти*

*Міністерства освіти і науки України*

*(лист ІМЗО від 08.06.2017 р. №21.1/12-Г-174)*

**Будна Н.О.**

Б 90 Математика : зошит для контрольних робіт : 4 кл. : перший  
варіант / Н.О. Будна. — Тернопіль : Навчальна книга — Богдан,  
2021. — 40 с.

ISBN 978-966-10-6470-5

У зошиті запропоновано 8 тематичних контрольних робіт, по 2 варіанти у кожній, та одну підсумкову контрольну роботу (Державна підсумкова атестація), зміст яких відповідає Державному стандарту початкової освіти, Типовим освітнім програмам з математики для учнів 4 класу.

Роботи № 1, 2, 3, 5, 6 — комбіновані. Вони складаються із 8 завдань на обчислення, розв'язування задачі, рівняння або нерівностей, завдань з іменованими числами, геометричного матеріалу та творчого завдання. Роботи № 4, 7 — тестові, що складаються із 7 тестових завдань закритого і відкритого типів. Робота № 8 допоможе перевірити навички усних обчислень у межах програмових вимог.

У зошиті відведено вільні сторінки для роботи над помилками.

Кожен варіант є окремим блоком сторінок. Посібник можна розшити й отримати два зошити.

Для учнів 4-го класу.

**УДК 51.372.47**

*Охороняється законом про авторське право. Жодна частина цього видання не може бути  
відтворена в будь-якому вигляді без дозволу видавництва.*

ISBN 978-966-10-6470-5

© Навчальна книга — Богдан, виключна  
ліцензія на видання, оригінал-макет, 2021

*Дата***1.** Розв'яжи задачу.

У цистерні було 750 л молока. З неї відлили молоко в 7 бідонів, по 34 л у кожний. Скільки літрів молока залишилося в цистерні?

**2.** Обчисли.


$547 + 353 = \square\square\square$

$565 - 308 = \square\square\square$

3. Обчисли.

$247 \cdot 4 = \square \square \square$


$651 : 3 = \square \square \square$



4. Обчисли.

$480 - 360 : 4 = \square \square \square$

$120 + 8 \cdot 2 = \square \square \square$



5. Обчисли.

$2 \text{ м} - 1 \text{ см} = \square \square \square \square$

$1 \text{ м} : 2 \text{ дм} = \square$

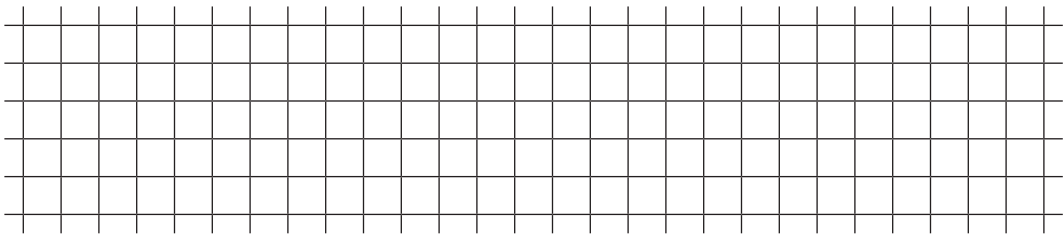


6. Знайди значення виразу.

$8 : a + a \cdot 1, \text{ якщо } a = 1.$



7. Довжина прямокутника 12 см, ширина – на 4 см менша. Знайди периметр прямокутника.



8\*. Устав пропущені знаки дій.

$$72 \square 54 \square 6 = 63$$

**Бали (рівень  
навчальних досягнень)**

_____
-------

---

**Робота над помилками**

A large grid of graph paper, consisting of 20 columns and 25 rows of small squares, intended for writing answers to the task.