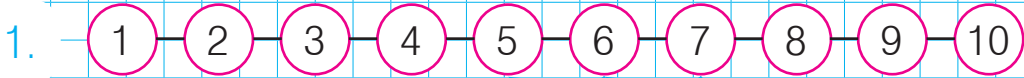


## Віднімання кількох чисел



$$7 - 2 = 7 - . - . = .$$

2. Обчисли.

$$9 - 3 - 1 = .$$

$$10 - 2 - 3 = .$$

$$9 - 3 - 2 = .$$

$$7 - 4 - 1 = .$$

3. Оленка намалювала 5 грибів, а Петрик — на 2 гриби менше. Скільки грибів намалював Петрик?

$$. \square . = . ( \quad . )$$


Відповідь: . гриби.



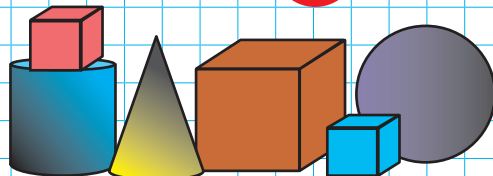
4. Оля вирізала 3 кружечки, а Андрій — на 2 кружечки більше. Скільки кружечків вирізав Андрій?

$$. \square . = . ( \quad . )$$

Відповідь: . кружечків.



5. Скільки кубів ти бачиш на малюнку? Запиши.



## Задачі. Обчислення в межах 10



1. Порівняй.

3 см  4 см


1 см  10 см

10 см  2 см

5 см  5 см

2. У будинку живуть 3 собаки, а котів — на 1 більше.  
Скільки котів живе в будинку?

3  . = . ( . )



3

котів  
на 1 більше

?




Відповідь: . коти.

3. У Петрика 5 книжок, а в Іринки — на 2 книжки менше. Скільки книжок в Іринки?

.  . = . (кн.)

Петрик




5

книжок  
на 2 менше

Іринка

?



Відповідь: . книжки.

4. Перший годинник показує третю годину.

Котру годину показують інші годинники? Запиши.



4

3 год

.

.

.

## Різницеве порівняння чисел


1. Чи вистачить капусти всім козеняткам? Скільки капусти не вистачає?

$$\cdot - \cdot = \cdot (\cdot)$$

Відповідь: не вистачає  $\cdot$  капустини.



2. На скільки 8 більше від 5?  
На скільки 5 менше від 8?



на ? більше (менше)

$$8 - 5 = 3$$

Відповідь: 8 більше від 5 на  $\square$ .  
5 менше від 8 на  $\square$ .

3. Склади за малюнком задачу і розв'яжи її.



9

на ? л. більше  $\cdot \square \cdot = \cdot (\cdot)$




6

Відповідь: на  $\cdot$  лижники більше.

## Задачі. Обчислення в межах 10

1. У полі жило 4 хом'яки, а ховрахів — на 5 більше. Скільки ховрахів жило у полі?

$$\square = (\quad)$$



ховрахів  
на 5 більше



Відповідь:  $\square$  ховрахів.

2. За розв'язанням віднови умову задачі.

На клумбі посадили 4 куці білих троянд, а червоних — на 3 куці  . Скільки куців червоних троянд посадили на клумбі?

$$4 + 3 = 7 \text{ (к.)}$$

Відповідь: 7 куців.



3. Обведи правильну відповідь.

На одній вулиці горіло 5 ліхтарів, а на другій — 4. На скільки більше ліхтарів горіло на одній вулиці, ніж на другій?

5 ліхтарів

9 ліхтарів

на 1 ліхтар більше

