

**Натисніть тут, щоб  
купити книгу на сайті  
або замовляйте за телефоном:  
(0352) 51-97-97, (067) 350-18-70,  
(066) 727-17-62**

Н. О. Будна

# МАТЕМАТИКА

**1** ПЕРШИЙ ВАРІАНТ

## ДІАГНОСТИЧНІ РОБОТИ

уч \_\_\_\_\_ 2 \_\_\_\_\_ класу

---

---

---

*Схвалено для використання у закладах загальної середньої освіти  
комісією з педагогіки та методики початкового навчання  
Науково-методичної ради з питань освіти  
Міністерства освіти і науки України  
(лист ІМЗО від 18.06.2020 № 22.1/12-Г-399)*




ТЕРНОПІЛЬ  
НАВЧАЛЬНА КНИГА – БОГДАН




4. Розташувати подані іменовані числа в порядку спадання.

5 дн. 12 год, 2 тижд., 1 рік, 5 діб, 2 міс. 5 дн., 25 дн., 16 год, 2 міс.




5. Виміряти довжини поданих відрізків. Накреслити відрізок, який на 2 см довший за суму двох даних відрізків.




6. Розв'язати задачу.


Коли на пошті відправили 36 вітальних листівок, то там залишилося ще 12 листівок. Скільки листівок було на пошті?



**Додаткові завдання**



**Аналіз діагностичної роботи**



## Додаємо і віднімаємо у межах 20 (комбінована)

Дата

## 1. Обчислити.

$9 + 8$

$18 - (9 + 4)$

$7 + 5$

$9 + 9 - 8$

$17 - 9$

$(8 + 7) - 6$

## 2. Порівняти (&gt;, &lt;, =).

$8 + 9 \square 9 + 4$

$12 - 4 \square 14$

$13 - 6 \square 7$

## 3. Уставити пропущені числа.

$\square + 4 = 9$

$18 - \square = 9$