


1 Вибери правильну відповідь.**Чому в шубі тепло**

Якщо зняти шубу з вішака й виміряти температуру повітря всередині, то з'ясується, що вона така сама, як і довкола шуби. Отже, шуба не гріє, а лише не дає нашому внутрішньому теплу витікати у довколишній простір. Таким чином, людина як теплокровна істота гріє себе сама.

Якщо ж закутати в шубу сніговика, то вона його не грітиме, а охолоджуватиме — не даватиме холоду витікати у довкілля, і сніговик у шубі довго не розтане.

Шуба гріє тому, що...

- у ній є джерело тепла;
- в неї одягнена теплокровна істота;
- її нагріває сонце.

**2 Добери антоніми до поданих дієслів.**

Стояти — _____
 відносити — _____
 будувати — _____
 говорити — _____

3 Спиши текст, розкриваючи дужки.

(В)ється вузькою стрічкою річечка поміж берегів. З міста сюди (з)іхались на відпочинок люди. Спільні подорожі (об)єднують сім(і) та зміцнюють родини.



4 У показі мод брали участь 100 манекенниць, причому 85 із них демонстрували шуби, а решта — пухові курточки. На скільки більше шуб, ніж курточок, було продемонстровано на показі мод?

Розв'язання:

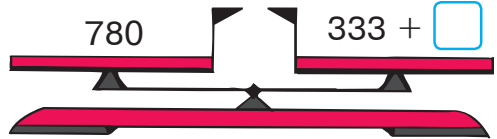
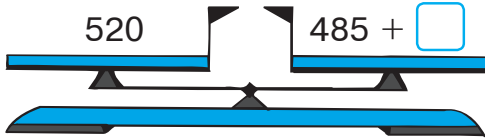
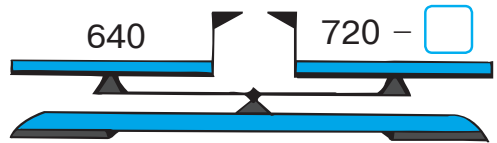
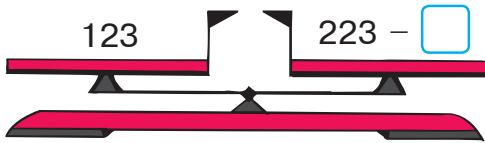
1) $\square\square\square - \square\square\square = \square\square$ (_____)

2) $\square\square\square - \square\square\square = \square\square$ (_____)

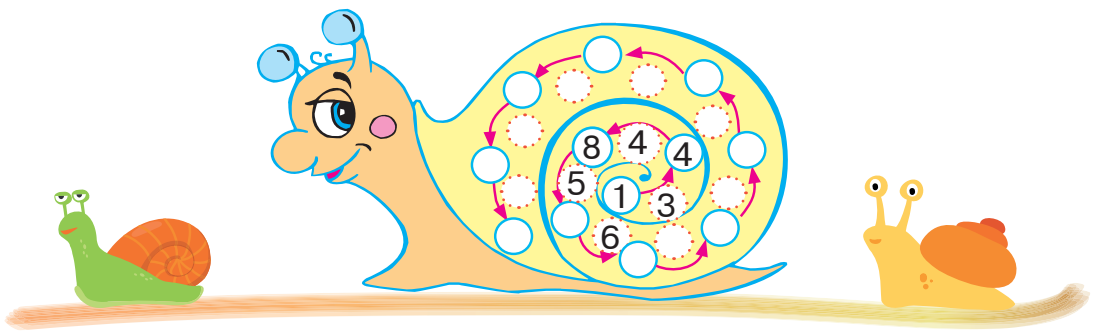
Відповідь. $\square\square$ _____




5 Урівноваж числові терези.



6 На хатинці цього равлика різниця кожної наступної пари чисел на одиницю більша, ніж різниця попередньої пари. Допиши пропущені числа.



7 У нижньому ряду зображені ті самі картки, що й у верхньому, але зворотною стороною. З'єднай обидві сторони кожної картки за умови, що картка із сонечком розташована між картками із сердечками, а картка із голубим сердечком — справа від картки з білим сердечком.



1 Вибери правильну відповідь.

Чому кішка добре бачить уночі

Кішка вміє бути непомітною. Ходить тихо, рухається м'яко, обережно. Єдине, що зводить нанівець котяче маскування, — це блиск очей. У темряві очі кішки горять зеленими вогниками. А причина — в особливій будові котячих очей, на денцях яких містяться своєрідні дзеркальця. Кожен промінчик світла проходить крізь око кішки двічі. Ось чому кішка бачить уночі значно краще, ніж людина.

У темряві очі кішки горять вогниками...

- червоного кольору;
 жовтого кольору;
 зеленого кольору.



2 З'єднай синоніми парами.



мама говорить
 небокрай вниз
 промовляє ненька
 додолу обрій




3 Зміні слова за питаннями.

(що?)	сніг	ніч
(чого?)	_____	_____
(чому?)	_____	_____
(що?)	_____	_____
(чим?)	_____	_____
(на чому?)	_____	_____

4 Визнач рід іменників.

День — _____	піч — _____
тінь — _____	варення — _____
ніч — _____	село — _____
кінь — _____	книга — _____



- 5 У заповіднику живе 89 представників родини котячих: 28 левів, 39 леопардів, а решта — гепарди. Скільки гепардів живе в заповіднику?

Розв'язання:

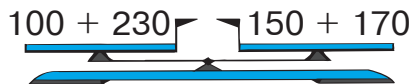
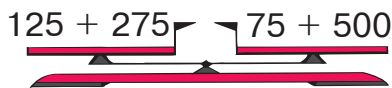
1) $\square\square\square - \square\square\square = \square\square$ (_____)

2) $\square\square\square - \square\square\square = \square\square$ (_____)

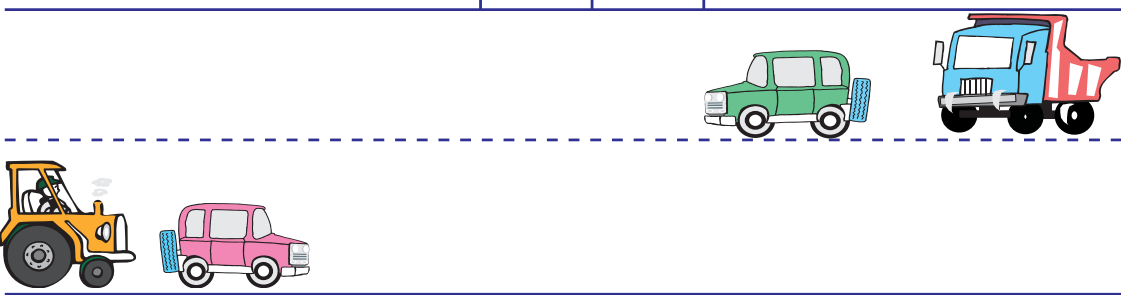
Відповідь. $\square\square$ _____



- 6 Підкресли терези, які показують неправильно.



- 7 Зображені на малюнку транспортні засоби рухаються, не обганяючи одне одного. Відомо, що легковий автомобіль порівняється з вантажівкою біля знака із сердечком. Біля якого знака порівнюються одне з одним легковий автомобіль і трактор?



- 8 Розташуй картки так, щоб з обох боків від картки із зафарбованим сердечком була однакова кількість карток з незафарбованими малюнками.

