

Н.О. Будна

# МАТЕМАТИКА

**Робочий зошит**

**4 клас**

*До підручника М.В. Богдановича, Г.П. Лишенка*



ТЕРНОПІЛЬ  
НАВЧАЛЬНА КНИГА – БОГДАН

УДК 51(075.2)  
ББК 22.1я71  
Б 90

Рецензенти:  
кандидат педагогічних наук, доцент  
*Т.В. Гладюк*  
вчитель вищої категорії, старший вчитель  
*Н.Я. Походжай*

**Будна Н.О.**

Б 90 Математика : робочий зошит : 4 кл. : до підручника М.В. Богдановича, Г.П. Лишенка / Н.О. Будна. — Тернопіль : Навчальна книга — Богдан, 2015. — 96 с.

ISBN 978-966-10-4262-8

Зошит з математики для 4-го класу містить матеріал, який відповідає навчальній програмі МОН України, Державному стандарту початкової освіти та доповнює підручник “Математика. 4 клас” (авт. Богданович М.В., Лишенко Г.П.).

Запропоновано завдання для поглиблення, закріплення і автоматизації обчислювальних навичок у межах 100, 1000, різноманітні задачі та творчі види робіт.

Зошит допоможе вчителю у доборі матеріалу до уроків та додаткових занять з учнями, буде корисним для самостійної роботи учнів і контролю їх з боку батьків.

УДК 51(075.2)  
ББК 22.1я71

*Охороняється законом про авторське право.  
Жодна частина цього видання не може бути відтворена  
в будь-якому вигляді без дозволу автора чи видавництва.*





2. Обчисли.

$$81 : 9 : 1 = \square$$

$$24 : 8 \cdot 0 = \square$$


$$0 + 1 \cdot 1 = \square$$

$$5 : 1 + 0 = \square$$

$$0 : 5 \cdot 7 = \square$$

$$72 : (9 \cdot 8) = \square$$

3. Накресли відрізки: довжина першого становить 1 дм 1 см, а другий — на 4 см коротший.



— До сторінок 10–11

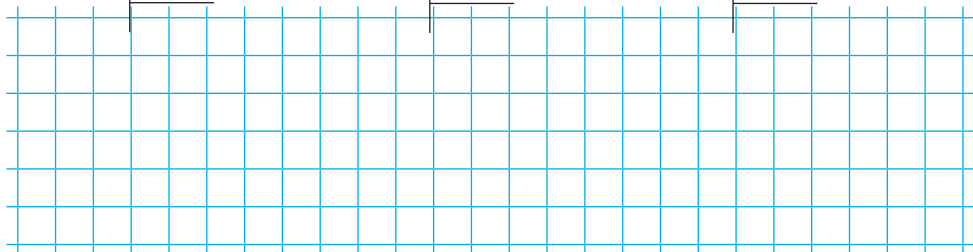


1. Обчисли.

$$868 \overline{)4}$$

$$794 \overline{)2}$$

$$249 \overline{)3}$$



2. Обчисли.


$$2 \text{ м} - 4 \text{ дм} = \square$$

$$3 \text{ м} : 5 = \square$$


$$2 \text{ дм} : 5 \text{ см} = \square$$

3. Розв'яжи задачу.

450 кг борошна насипали у 5 однакових мішків. Скільки кілограмів борошна у 3 таких мішках?



4. Накресли прямокутник зі сторонами завдовжки 4 см і 2 см. Обчисли його периметр.




До сторінок 12–13



1. Розв'яжи рівняння.

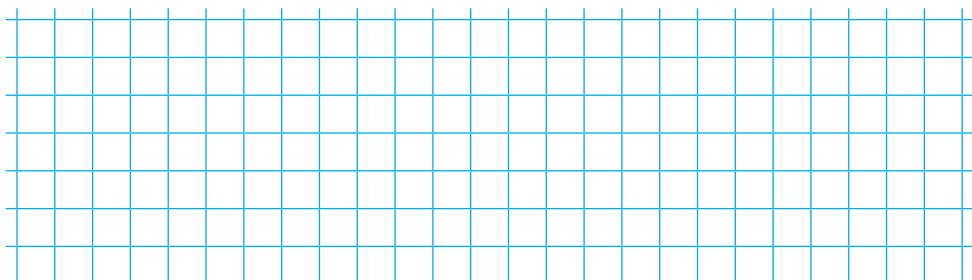
$$x \cdot 7 = 854$$

$$608 : x = 4$$



2. Розв'яжи задачу.

Першого дня мама купила 240 г печива, другого дня — у 2 рази більше. Четверту частину всього печива діти взяли з собою на екскурсію. Скільки грамів печива залишилося?



3. Накресли відрізок  $AB$ , довжина якого становить 12 см. Познач на ньому точку  $K$  так, щоб довжина відрізка  $AK$  відповідала  $\frac{1}{4}$  довжини відрізка  $AB$ .

До сторінок 13–14



1. Обчисли. Перевір дією множення.

$$680 \overline{) 5}$$

$$682 \overline{) 2}$$

$$572 \overline{) 4}$$

2. Розв'яжи задачу.

У шкільному музеї на одній стіні висить 12 експонатів, що становить  $\frac{1}{4}$  всіх експонатів музею. Скільки всього експонатів у шкільному музеї?


3. Накресли відрізок  $KM$ , якщо відомо, що  $\frac{1}{4}$  довжини відрізка дорівнює 2 см.





### 3. Розв'яжи задачу.

У буфет привезли 10 ящиків груш, по 12 кг у кожному, і 20 ящиків яблук, по 15 кг у кожному. Скільки всього кілограмів фруктів привезли в буфет?



До сторінок 16–18




### 1. Обчисли.

$$\begin{array}{r} \times 45 \\ \underline{12} \end{array}$$

$$\begin{array}{r} \times 35 \\ \underline{23} \end{array}$$

$$\begin{array}{r} \times 69 \\ \underline{14} \end{array}$$

$$\begin{array}{r} \times 14 \\ \underline{29} \end{array}$$



### 2. Розв'яжи задачу.

На пасіці викачали 355 кг меду і розлили його в 11 бідонів, по 15 кг у кожний, і в 2 діжки. Скільки кілограмів меду в одній діжці?

