


**Натисніть тут, щоб
купити книгу на сайті
або замовляйте за телефоном:
(0352) 51-97-97, (067) 350-18-70,
(066) 727-17-62**

Н.М. Бенцал



**Зошит
з математики**

1 клас

Частина 1



Тернопіль
Навчальна книга — Богдан

УДК 51:372.4
ББК 22.1я71
Б 46

Рецензенти:
кандидат педагогічних наук, доцент
Т.В. Гладюк
вчитель початкових класів, вчитель-методист
Н.О. Будна

Схвалено

Бенцал Н.М.

Б 46 Зошит з математики : 1 кл.: у 2-х ч. / Ч. 1. / Н.М. Бенцал. — Тернопіль :
Навчальна книга—Богдан, 2019. — 64 с.

ISBN 978-966-10-5612-0

Зміст зошита відповідає Державному стандарту початкової освіти, типовим освітнім
програмам та підручнику “Математика. 1 клас” (авт. Скворцова С.О., Онопрієнко О.В.).

Посібник містить вправи для вироблення навичок каліграфічного письма, різні за склад-
ністю завдання для самостійної роботи та завдання творчого характеру. Цікавим доповненням
є кольорова вкладка з дидактичним матеріалом.

Зошит призначено для учнів 1-го класу.

УДК 51:372.4
ББК 22.1я71

*Охороняється законом про авторське право. Жодна частина цього видання не може
бути відтворена в будь-якому вигляді без дозволу автора чи видавництва.*

Навчальне видання
БЕНЦАЛІ Наталя Миколаївна
ЗОШИТ З МАТЕМАТИКИ
1 клас
Частина 1

Головний редактор *Богдан Будний*
Редактор *Ірина Чоренька*
Технічний редактор *Неля Домарецька*
Обкладинка *Володимира Басалиги*
Комп'ютерна верстка *Ольги Швед*

Підписано до друку 22.11.2018. Формат 70х84/16. Папір офсетний.
Гарнітура Pragmatica. Умовн. друк. арк. 4,36. Умовн. фарбо-відб. 4,36.

Видавництво «Навчальна книга – Богдан»
Свідоцтво про внесення суб'єкта видавничої справи до Державного реєстру видавців,
виготівників і розповсюджувачів видавничої продукції ДК № 4221 від 07.12.2011 р.

Навчальна книга – Богдан, просп. С. Бандери, 34а, м. Тернопіль, 46002
Навчальна книга – Богдан, а/с 529, м. Тернопіль, 46008
тел./факс (0352) 52-06-07; 52-05-48; 52-19-66; *office@bohdan-books.com* *www.bohdan-books.com*


ISBN 978-966-10-5612-0



9 789661 056120

Форми об'єктів. Многокутники, круг, конус, піраміда, циліндр, куб, куля

1. З'єднай за зразком.



2. Знайди і зафарбуй фігури вказаними кольорами.


○ – червоний

△ – синій

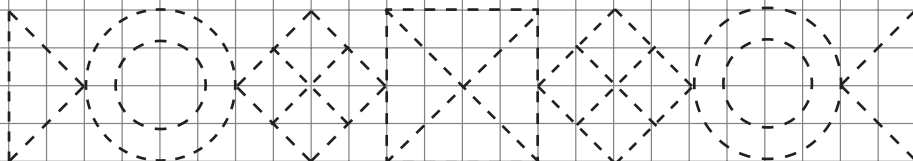
□ – жовтий

▭ – чорний

⬠ – зелений



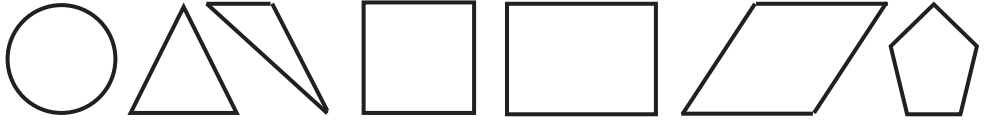
3.




Геометричні фігури.

Просторові відношення: ліворуч, праворуч,
над, під, між, на, вгорі, внизу, по центру

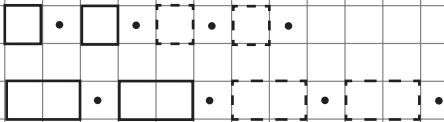
1. Назви геометричні фігури. Зафарбуй квадрат. Яка фігура ліворуч від нього, а яка — праворуч? Заштрихуй ці фігури.




2. Наведи зображені об'єкти. Розкажи, що де знаходиться.



3.



4. Встанови відповідність і домалюй фігури.




5. Танграм. Склади фігуру зайчика (див. додаток).

Точка, пряма, крива

1. З'єднай точки. Постав ще дві точки.



2. Наведи криві синім олівцем, а прямі — жовтим.

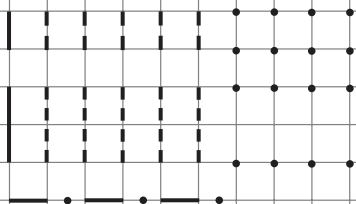


3. Постав одну точку на прямій, дві точки — над прямою, три точки — під прямою.

ПРЯМА

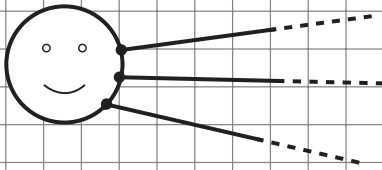


4.



Промінь, відрізок, ламана


1. Домалюй сонечку промені.



ПРОМІНЬ




2. Виконай за зразком.



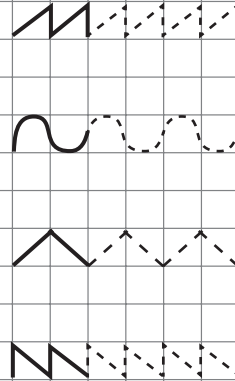
3. Постав дві точки на прямій і утвори відрізок.



4.



5.



6.

