

**Натисніть тут, щоб
купити книгу на сайті
або замовляйте за телефоном:
(0352) 51-97-97, (067) 350-18-70,
(066) 727-17-62**

Н. О. Будна

МАТЕМАТИКА

1 ПЕРШИЙ ВАРІАНТ

ДІАГНОСТИЧНІ РОБОТИ

уч _____ з _____ класу

*Схвалено для використання у закладах загальної середньої освіти
комісією з педагогіки та методики початкового навчання
Науково-методичної ради з питань освіти
Міністерства освіти і науки України
(лист ІМЗО від 31.07.2020 № 22.1/12-Г-709)*



ТЕРНОПІЛЬ
НАВЧАЛЬНА КНИГА – БОГДАН

4. Розв'яжи рівняння.

$$38 + x = 83$$

$$52 - x = 18$$

5. Котру годину показує кожен годинник? Котру годину показуватимуть годинники через 20 хв?



6. Порівняй.


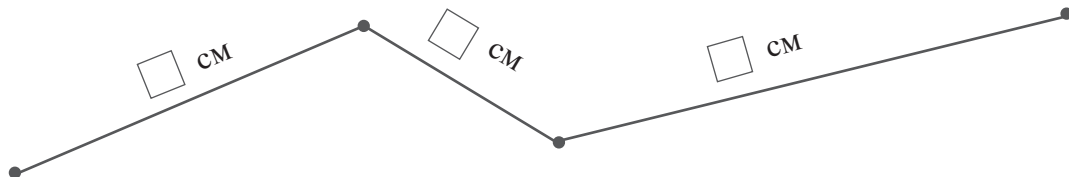
$$3 \text{ см} \square 3 \text{ дм}$$

$$86 \text{ см} \square 68 \text{ см}$$


$$2 \text{ дм} \square 20 \text{ см}$$

$$1 \text{ ц} \square 1 \text{ кг}$$

7. Виміряй довжину кожної ланки ламаної. Обчисли загальну довжину ламаної.



8*. У класі 15 дівчаток, їх на 7 більше, ніж хлопчиків. Скільки учнів у класі?



Аналіз роботи

