


**Натисніть тут, щоб
купити книгу на сайті
або замовляйте за телефоном:
(0352) 51-97-97, (067) 350-18-70,
(066) 727-17-62**



Музикант зіграв три однакові за тривалістю мелодії за 12 хвилин. За скільки хвилин він зіграє 4 такі мелодії?

16 хвилин $17-3$

18 хвилин $18-3$



«ПЛЮС»

РЕЗУЛЬТАТ

Ряди однакові $16-3$

Перший ряд $19-3$



«МІНУС»



В одному ряду посадили 13 дерев на відстані 5 м одне від одного, а в другому — 21 дерево на відстані 3 м одне від одного. Який із рядів довший?




На першій полиці стояло 32 книжки. Коли на неї переставили 6 книжок із другої полиці, то на обох полицях книжок стало порівну. Скільки книжок стояло на другій полиці спочатку?



«ПЛЮС»

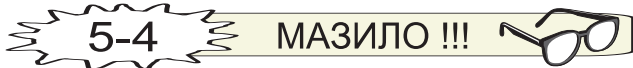
РЕЗУЛЬТАТ



У магазині було 420 аркушів з наклейками. Протягом дня продали $\frac{1}{6}$ частину цих аркушів. На скільки менше аркушів з наклейками продали, ніж залишилось у магазині?



«МІНУС»



20-1



Скільки років Матвійкові, якщо через 8 років та ще через рік йому буде 20 років?

11 років 12-4

12 років 14-4

26-1

«ПЛЮС»

РЕЗУЛЬТАТ

20-3 ГОЛ !!!



20-2



Двоє майстрів, працюючи з однаковою продуктивністю, за 6 годин роботи виклали 720 тротуарних плиток. Скільки таких плиток викладе один із майстрів за 8 годин, якщо продуктивність його праці не зміниться?

560 плиток 15-3


480 плиток 13-3

27-2

«МІНУС»

20-4 МАЗИЛО !!!





На фермі було 4850 корів, а телята становили $\frac{2}{5}$ від кількості корів. На скільки менше телят, ніж корів, було на фермі?



«ПЛЮС»



Три ділянки загальною площею 114 га засіяли різними культурами: буряками, морквою, капустою. Під буряки відвели площу, на 15 га більшу, ніж під моркву, а під капусту — на 18 га меншу, ніж під буряки. Яку площу засіяли буряками, морквою і капустою окремо?



РЕЗУЛЬТАТ

«МІНУС»

