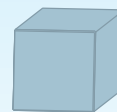
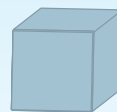
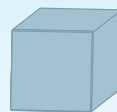
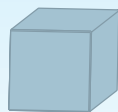
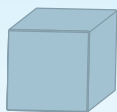




**1**

Кожне число позначене цифрою, словом і кількістю пальців на руці. Познач його також відповідною кількістю крапок на гральному кубіку.

**1****один****2****два****3****три****4****чотири****5****п'ять****2**


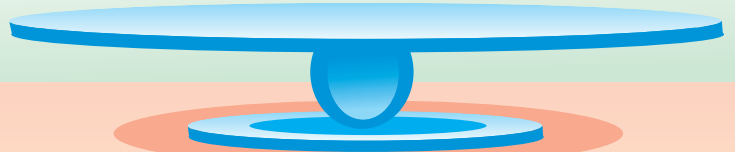
Наклей на двері автомашин цифри, щоб червона автомашина була під номером 1, синя — під номером 2, жовта — під номером 3, зелена — під номером 4, а фіолетова — під номером 5.



12



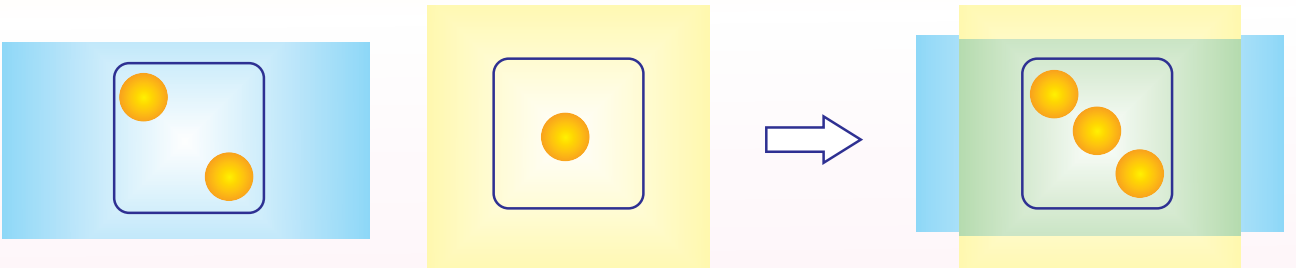
Наклей на синьому столі 6 мотрійок, а на жовтому — дві. Скільки мотрійок буде на зеленому столі, якщо на нього переставити всіх мотрійок?



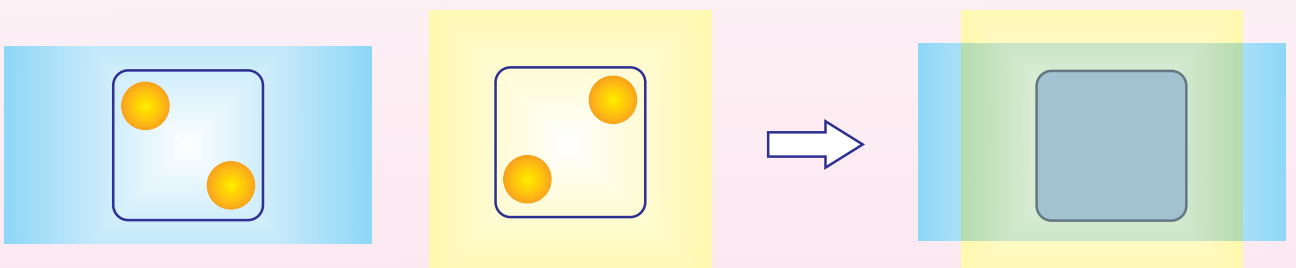
13



На прозорих плівках блакитного й жовтого кольорів намальовані крапочки. Їх наклали одна на одну, як показано на малюнку. Скільки крапочок було на блакитній плівці? На жовтій? Разом?




Простеж закономірність і познач у вільному квадратику відповідну кількість крапок.



14



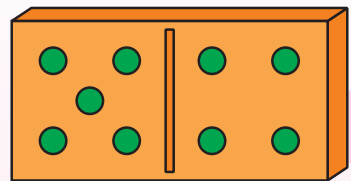
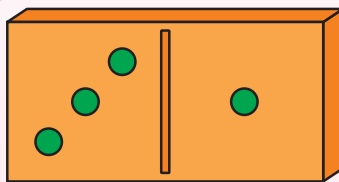
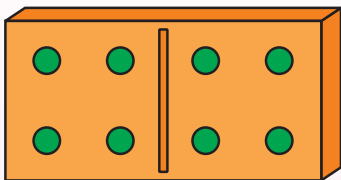
Наклей під малюнком зірочки так, щоб їх стало стільки, скільки дітей сидить у жовтому й зеленому човнах.



15






Яке число позначають крапочки на кожній з пластинок доміно?  
Наклей під ними відповідні цифри.  
Скільки крапочок на лівому боці пластинки доміно? Скільки їх на правому боці?



25



Скільки крапочок має бути на синій плівці, щоб при накладанні плівок вийшло потрібне число? Наклей відповідний квадратик на плівку і цифру в клітинку.




$$\text{blue circle} + 2 = 4$$

26



На ялинковій гірлянді горіли три сонечка. Два сонечка погасли. Скільки сонечок залишилося горіти? Наклей відповідну цифру в порожню клітинку.

**Горіло**



**Погасло**



**Залишилося  
горіти**

?

$$3 - 2 = \text{blue circle}$$



В одній вежі кран розмістив кубики за порядком зростання чисел, а в іншій — навпаки. Наклей номери кубиків у зворотному порядку.

